



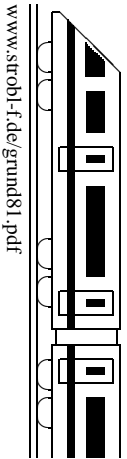
8. Klasse TOP 10 Mathematik	08
Gesamtes Grundwissen mit Übungen	G

Grundwissen Mathematik 8. Klasse: Die 10 wichtigsten Themen auf jeweils einer Seite!

Zum Wiederholen kann man die Übungen des Kompakt-Überblicks verwenden.

8/1	Proportionalität	G	Ü	L
8/2	Funktionen verstehen	G	Ü	L
8/3	Lineare Funktionen	G	Ü	L
8/4	Lineare Gleichungssysteme	G	Ü	L
8/5	Wahrscheinlichkeiten, Laplace-Experimente	G	Ü	L
8/6	Rechnen mit Bruchtermen	G	Ü	L
8/7	Gebrochen-rationale Funktionen	G	Ü	L
8/8	Bruchgleichungen, Auflösen von Formeln	G	Ü	L
8/9	Strahlensatz, Ähnlichkeit, Streckung	G	Ü	L
8/10	Kreismessung, Ungleichungen, Potenzen mit negativen Exponenten	G	Ü	L
8/K	Kompakt-Überblick zum Grundwissen	G	Ü	L

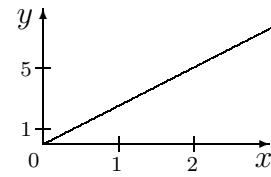
G=Grundwissen, Ü=Übungen, L=Lösungen



Direkte Proportionalität (in Zeichen: $y \sim x$)

Beispiel: 1 kg einer bestimmten Obstsorte kostet 2,55 Euro. Jeder Menge x (in kg) ist der zu bezahlende Preis y (in Euro) zugeordnet:

Menge x in kg	0	1	2	3	4	5
Preis y in Euro	0	2,55	5,10	7,65	10,20	12,75



Der Preis y kann berechnet werden durch $y = 2,55 \cdot x$.

Zuordnungsvorschrift: $x \mapsto y = 2,55 \cdot x$ (Sprich: Jedem x wird zugeordnet $y = 2,55 \cdot x$).

Eigenschaften:

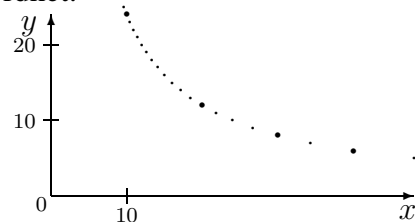
- Dem 2-fachen (3-fachen) x -Wert ist der 2-fache (3-fache) y -Wert zugeordnet.
- Quotientengleichheit: Dividiert man den y -Wert durch den x -Wert, erhält man jeweils den gleichen Wert (im Beispiel: $\frac{y}{x} = \frac{2,55}{1} = \frac{5,10}{2} = \dots = 2,55$).
- Die Zuordnungsvorschrift ist von der Form $x \mapsto y = m \cdot x$.
 m heißt Proportionalitätsfaktor (im Beispiel: 2,55).
- Die Punkte im Schaubild liegen auf einer Ursprungsgeraden, d. h. auf einer Geraden durch den Nullpunkt (0|0).

Indirekte Proportionalität (in Zeichen: $y \sim \frac{1}{x}$)

Beispiel: Ein Busunternehmer rechnet für den Tagesausflug, den er anbietet, mit Personal- und Benzinkosten von 240 Euro. Wie viele Personen müssen sich, damit diese Kosten gedeckt sind, für die Fahrt anmelden, wenn der Reisepreis 10 (20, 30, 40) Euro beträgt?

Jedem Reisepreis x ist die benötigte Personenzahl y zugeordnet:

Preis x in Euro	10	20	30	40
Benötigte Personenzahl y	24	12	8	6



Die Personenzahl y kann berechnet werden mit $y = \frac{240}{x}$.

Zuordnungsvorschrift: $x \mapsto y = \frac{240}{x}$.

Eigenschaften:

- Dem 2-fachen (3-fachen) x -Wert ist der $\frac{1}{2}$ -fache ($\frac{1}{3}$ -fache) y -Wert zugeordnet.
- Produktgleichheit: Die Produkte aus x -Wert und zugeordnetem y -Wert ergeben stets den gleichen Wert (im Beispiel: $x \cdot y = 10 \cdot 24 = 20 \cdot 12 = \dots = 240$).
- Die Zuordnungsvorschrift ist von der Form $x \mapsto y = \frac{m}{x}$.
- Die Punkte im Schaubild liegen auf einer Hyperbel.

Jede dieser Eigenschaften eignet sich zum **Lösen von Aufgaben**, außerdem die Schlussrechnung (Dreisatz, \rightarrow grund69.pdf). Beispiel:

Ein Fuhrunternehmen soll 180 m³ Erde abtransportieren. Mit 20 Fuhren hat er schon 120 m³ Erde abgefahren. Wie viele Fuhren sind insgesamt erforderlich?

Es handelt sich hier um eine direkte Proportionalität (bei doppelt so viel Erde braucht man doppelt so viele Fuhren): Abgefahrene Erde x in m³ \mapsto Zahl der Fuhren y .

Lösungsmöglichkeiten (weitere siehe ueb81.pdf):

- Durch Vergleich der x -Werte:

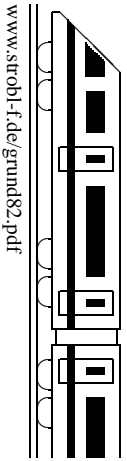
x in m ³	120	180
y	20	...
	$\xrightarrow{\cdot 1,5}$	$\xrightarrow{\cdot 1,5}$ also ... = 30

- Durch Aufstellen der Gleichung der Form

$y = mx$. Dabei ist mit $x = 120$ und $y = 20$:
 $20 = m \cdot 120$, also $m = \frac{20}{120} = \frac{1}{6}$ (siehe unten).
 Mit $y = \frac{1}{6}x$ berechnet man nun für $x = 180$:
 $y = \frac{1}{6} \cdot 180 = 30$.

(Proportionalitätsfaktor anschaulich: $\frac{1}{6}$ Fuhre pro m³)

- Mit Quotientengleichheit: $\frac{20}{120} = \frac{\dots}{180}$, also ... = $\frac{20}{120} \cdot 180 = 30$ („20 verhält sich zu 120 so wie ... zu 180“).



Wesentliches Kennzeichen einer **Funktion** ist: Zu jedem x -Wert gehört genau ein y -Wert. Meistens gibt es einen **Funktionsterm** (eine Formel, siehe auch Terme \rightarrow grund73.pdf), die angibt, wie man zu einem gegebenen x -Wert den zugehörigen y -Wert (Funktionswert) berechnet, z. B. mit der Funktionsgleichung

$$y = \underbrace{2x - 1}_{\text{Funktionsterm, Bezeichnung z. B. } f(x)}$$

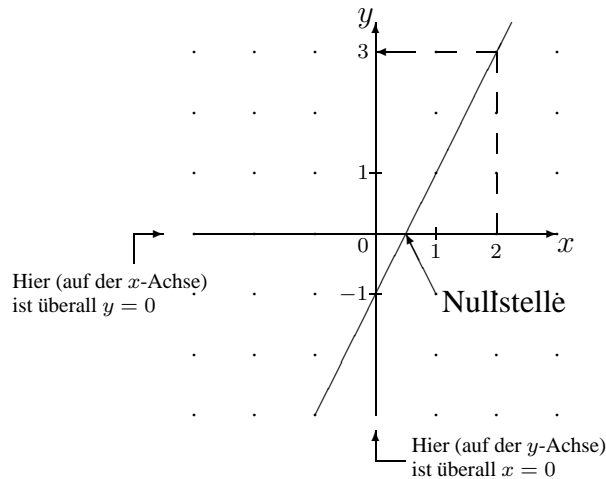
Durch Einsetzen einiger x -Werte berechnet man eine **Wertetabelle**:

x	-2	-1	0	1	2
y	-5	-3	-1	1	3

Die Wertepaare (x -Wert, zugehöriger y -Wert), z. B. $(-2; -5)$ usw., stellt man in einem Koordinatensystem dar:

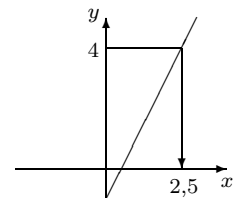
Funktionsgraph:

Er besteht aus allen Punkten $(x; y)$, für die die Gleichung $y = 2x - 1$ gilt.



Wichtig:

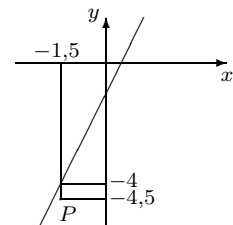
- x -Wert gegeben (z. B. $x = 2$), y -Wert gesucht (gestrichelte Linie im Bild oben): Einsetzen in die Funktionsgleichung, z. B. $x = 2: y = 2 \cdot 2 - 1 = 3$
- y -Wert gegeben (z. B. $y = 4$), x -Wert gesucht (Bild rechts): Einsetzen in die Funktionsgleichung und Auflösen nach x , z. B. $y = 4$ eingesetzt in die Funktionsgleichung $y = 2x - 1$: $4 = 2x - 1 \Rightarrow x = 2,5$



- Den **Schnittpunkt mit der y -Achse** sieht man sofort (Verstehe: Die y -Achse sind Punkte mit $x = 0$, also Einsetzen von $x = 0$ in $y = 2x - 1$): $(0; -1)$
- Schnittpunkte mit der x -Achse heißen **Nullstellen** (Verstehe: Die x -Achse sind Punkte mit $y = 0$, also Einsetzen von $y = 0$ in die Funktionsgleichung): $0 = 2x - 1 \Rightarrow x = \frac{1}{2}$

Merke: Nullstellen berechnet man, indem man den Funktionsterm gleich 0 setzt und nach x auflöst.

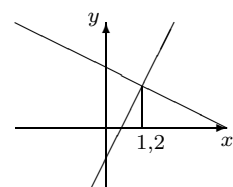
- Ob ein gegebener Punkt P (z. B. $(-1,5; -4,5)$) auf dem Graphen liegt, sieht man durch Einsetzen des x -Werts in den Funktionsterm $2x - 1$: $2 \cdot (-1,5) - 1 = -4 \neq -4,5$, P liegt also unterhalb der Geraden.

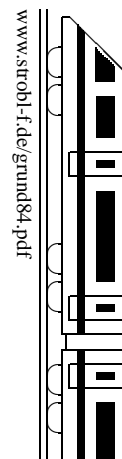


- Hat man zwei Funktionsgleichungen (z. B. $y = 2x - 1$ und $y = -\frac{1}{2}x + 2$) und sucht man **Schnittpunkte**, also Punkte $(x; y)$, für die *beide* Gleichungen gelten, so muss man die Funktionsterme gleichsetzen:

$$2x - 1 = -\frac{1}{2}x + 2 \Rightarrow \frac{5}{2}x = 3 \Rightarrow x = 3 \cdot \frac{2}{5} = 1,2$$

(Danach y -Wert durch Einsetzen von x in eine der Funktionsgleichungen; hier: $y = 2 \cdot 1,2 - 1 = 1,4$)





Beispiel:

$$2x - 3y = 7 \quad \text{(I)}$$

$$4x + 5y = -8 \quad \text{(II)}$$

Einsetzverfahren

Löse eine der Gleichungen nach einer Variablen auf und setze in die andere Gleichung ein:

I nach x aufgelöst: $x = \frac{7}{2} + \frac{3}{2}y$ (I')

In II eingesetzt: $4 \cdot (\frac{7}{2} + \frac{3}{2}y) + 5y = -8$

Jetzt hat man eine Gleichung, die nur noch y enthält (x ist eliminiert worden); löse diese Gleichung:

$$14 + 6y + 5y = -8$$

$$y = -2$$

Berechne die andere Unbekannte durch Einsetzen in I':

$$x = \frac{7}{2} + \frac{3}{2} \cdot (-2) = \frac{1}{2}$$

Die Lösungsmenge enthält genau ein Zahlenpaar als Lösung:

$$L = \{(\frac{1}{2}; -2)\}$$

Man hat jeweils Wahlmöglichkeiten, welche Variable man eliminiert; wähle geschickt!

Spezialfälle

In Ausnahmefällen kann sich ein Widerspruch von der Sorte $0 = 1$ ergeben (dann ist $L = \{\}$) oder eine allgemeingültige Gleichung der Sorte $0 = 0$ (dann hat man eigentlich nur eine Gleichung mit unendlich vielen Lösungen).

Graphisches Lösungsverfahren

Jede Gleichung wird nach derselben Variablen aufgelöst; die sich dadurch ergebende lineare Funktion wird im Koordinatensystem als Gerade dargestellt; gemeinsame Punkte stellen die gesuchte „simultane“ Lösung dar.

Beispiel: Autofahrt einer Mutter (erfahren mit $1 \frac{\text{km}}{\text{min}}$) mit ihrer Tochter (Führerscheinneuling mit $0,8 \frac{\text{km}}{\text{min}}$). Die Tochter soll gleich lange wie die Mutter fahren. Sie wollen eine Strecke von insgesamt 7 km zurücklegen. Wie lange darf die Tochter/die Mutter am Steuer sitzen?

Sei x die Fahrzeit der Tochter in min, y die der Mutter.

I. $x = y$

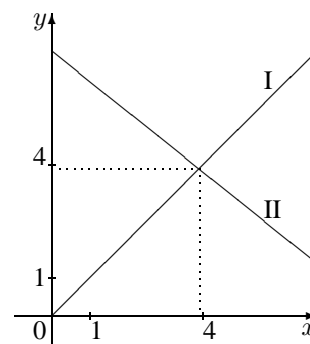
II. $0,8 \cdot x + 1 \cdot y = 7$

Aufgelöst nach y : I. $y = x$

II. $y = 7 - 0,8x$

Der Grafik entnimmt man den Schnittpunkt mit $x \approx 3,9$, $y \approx 3,9$. Tochter und Mutter dürfen je ca. 3,9 min am Steuer sitzen.

Vorteil des graphischen Verfahrens: Man kann weitere Punkte relativ leicht interpretieren; z. B. (5|3) bedeutet, dass zwar 7 km zurückgelegt werden, aber die Tochter würde länger als die Mutter fahren; bei (5|5) würden Mutter und Tochter gleich lange am Steuer sitzen, aber es würden mehr als 7 km zurückgelegt werden.



Additionsverfahren

Schreibe die Gleichungen ordentlich untereinander und multipliziere jede Gleichung so, dass die Koeffizienten einer Variablen Gegenzahlen werden; anschließend werden beide Seiten der Gleichungen addiert. Beispiel:

$$\begin{array}{rcl} \text{I} & 2x - 3y & = 7 & | \cdot 5 \\ \text{II} & 4x + 5y & = -8 & | \cdot 3 \\ \hline \text{I}' & 10x - 15y & = 35 & \\ \text{II}' & 12x + 15y & = -24 & \\ \hline \text{I}' + \text{II}' & 22x & = 11 & \\ & & & x = \frac{1}{2} \end{array}$$

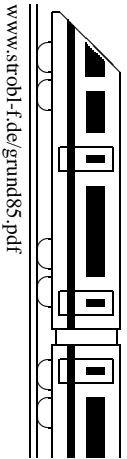
Jetzt Gegenzahlen $-15/+15!$
Diesen Zwischenschritt schreibt man in der Regel nicht hin, sondern addiert gleich beide Seiten der Gleichungen im Kopf ($5 \cdot 2x + 3 \cdot 4x = 22x$ usw.).

Die andere Unbekannte y berechnet man durch Einsetzen in I oder II:

in I: $2 \cdot \frac{1}{2} - 3y = 7$

$$y = -2$$

$$L = \{(\frac{1}{2}; -2)\}$$



Zufallsexperimente lassen sich beschreiben durch Aufzählen aller möglichen Versuchsausgänge. Diese bilden den **Grundraum** Ω .

Beispiel: Herr A und Frau B betreten im Untergeschoß eines Kaufhauses den Aufzug und wählen ihr Ziel (Erdgeschoß, 1., 2. oder 3. Stock). Das Ergebnis „Herr A möchte in den 2. Stock, Frau B ins Erdgeschoß“ könnte notiert werden als $(2, 0)$ oder als 20; der Grundraum ist

$$\Omega = \{00, 01, 02, 03, \\ 10, 11, 12, 13, \\ 20, 21, 22, 23, \\ 30, 31, 32, 33\}.$$

Anzahl der Elemente von Ω : $|\Omega| = 16$.

Ereignisse sind Teilmengen von Ω .

In obiger Situation z. B.

$$E_1 = \text{„Herr A möchte in den 2. Stock“} = \{20, 21, 22, 23\}$$

$$E_2 = \text{„Frau B möchte in den 2. Stock“} = \{02, 12, 22, 32\}$$

$$E_3 = \text{„Herr A und Frau B möchten ins gleiche Stockwerk“} = \{00, 11, 22, 33\}$$

$$E_4 = \text{„Herr A steigt vor Frau B aus“} = \{01, 02, 03, 12, 13, 23\}$$

$$E_5 = \text{„Herr A möchte in den 2. Stock, Frau B ins Erdgeschoß“} = \{20\}$$

Gegenereignis „nicht E^x “, Schreibweise \overline{E} ,

z. B. $\overline{E_4} = \text{„Herr A steigt nicht vor Frau B aus, d. h. A nach B oder A und B im gleichen Stockwerk“} = \{00, 10, 11, 20, 21, 22, 30, 31, 32, 33\}$

„Und“-Ereignis: Beide Ereignisse treten gleichzeitig ein, $E_1 \cap E_2$ (Schnittmenge),

z. B. $E_1 \cap E_2 = \text{„beide A und B möchten in den 2. Stock“} = \{22\}$

„Oder“-Ereignis: E_1 oder E_2 (oder beide) treten ein, $E_1 \cup E_2$ (Vereinigungsmenge),

z. B. $E_1 \cup E_2 = \text{„A oder B (oder beide) möchten in den 2. Stock, d. h. mindestens einer möchte in den 2. Stock“} = \{02, 12, 22, 32, 20, 21, 23\}$

Unmögliches Ereignis: Leere Menge $\{\}$, z. B. $E_3 \cap E_4$

Sicheres Ereignis: Ganz Ω , z. B. $E_4 \cup \overline{E_4}$

Elementarereignis: Einelementige Teilmenge (besteht nur aus einem Ergebnis), z. B. E_5

Wahrscheinlichkeiten

Für jedes Ereignis gibt man den Grad der Sicherheit an, mit dem man das Eintreten des Ereignisses erwarten kann: Zu jedem Ereignis E hat man eine Wahrscheinlichkeit $P(E)$ zwischen 0 und $100\% = 1$.

Bei Laplace-Experimenten sind alle Elementarereignisse gleich wahrscheinlich: Es ist dann

$$P(E) = \frac{|E|}{|\Omega|} = \frac{\text{Anzahl der für } E \text{ günstigen Ergebnisse}}{\text{Anzahl aller möglichen Ergebnisse}}$$

Betrachtet man obige Situation als Laplace-Experiment (was aber zu hinterfragen ist!), so ist

$$\text{z. B. } P(E_5) = \frac{1}{16} = 0,0625 = 6,25\% \quad P(E_3) = \frac{4}{16} = \frac{1}{4} = 0,25 = 25\%$$

$$P(E_4) = \frac{6}{16} = \frac{3}{8} = 0,375 = 37,5\% \quad P(\overline{E_4}) = \frac{10}{16} = 0,625 = 62,5\% = 1 - P(E_4)$$

Allgemein ist $P(\overline{E}) = 1 - P(E)$.

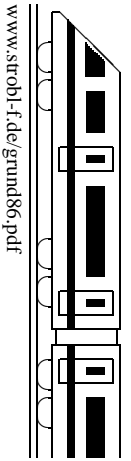
Zum Zählen der Elemente von E bzw. Ω eignet sich ein Baumdiagramm oder das Zählprinzip (\rightarrow grund55.pdf).

In obiger Situation ist z. B.

$$|\Omega| = 4 \cdot 4 \text{ (4 Wahlmöglichkeiten für Herrn A, 4 für Frau B),}$$

$$|E_3| = 4 \cdot 1 \text{ (4 Mögl. für A, dann nur noch 1 für B, da sie das gleiche wie A wählen muss)}$$

Zu den Begriffen relative Häufigkeit und Gesetz der großen Zahlen \rightarrow grund65.pdf.



- **Faktorisiere den Nenner**, d. h. schreibe ihn durch Ausklammern als Produkt.

Beispiele: $\frac{6x-4}{5x^2-ax} = \frac{6x-4}{x(5x-a)}$ $\frac{ab}{6a-4b} = \frac{ab}{2(3a-2b)}$

Tipp: Einen faktorisierten Nenner nicht ausmultiplizieren, wenn es nicht nötig ist!¹

- **Definitionsmenge:** Der Nenner darf nicht 0 werden. In obigen Beispielen ist also zu fordern:² $x \neq 0, x \neq \frac{a}{5}$ bzw. $3a - 2b \neq 0$, also $a \neq \frac{2}{3}b$

- **Richtiges Kürzen**

Kürzen darf man nur, wenn in Zähler und Nenner ein Produkt steht. Man muss also zuerst faktorisieren. Beispiel: $\frac{6x-6a}{x^2-ax} = \frac{6(x-a)}{x(x-a)} = \frac{6}{x}$

Bei Summen und Differenzen darf nicht gekürzt werden, z. B. $\frac{6x+a}{x^2+a}$ oder $\frac{6(x-a)-1}{x-a}$ können nicht vereinfacht werden.

Ausnahme: Man führt das Ausklammern im Kopf durch und kürzt in jedes Glied der Summe. Beispiele: $\frac{6x-6a}{2x^2} = \frac{3x-3a}{x^2}$ (mit 2 gekürzt); $\frac{5x}{x^2-ax} = \frac{5}{x-a}$ (mit x gekürzt)

- **Addition, Subtraktion**

Auf gemeinsamen Nenner bringen (vorher faktorisieren), dann auf gemeinsamem Bruchstrich addieren/subtrahieren (Klammern setzen). Beispiel:

$$\frac{x-3}{2x-2} - \frac{x-1}{2x+2} + 4 = \frac{x-3}{2(x-1)} - \frac{x-1}{2(x+1)} + \frac{4}{1} = \dots$$

(hier wurde zuerst faktorisiert; Hauptnenner ist nun $2(x-1)(x+1)$, der erste Bruch wird erweitert mit $(x+1)$, usw.):

$$\begin{aligned} \dots &= \frac{(x-3)(x+1)}{2(x-1)(x+1)} - \frac{(x-1)(x-1)}{2(x-1)(x+1)} + \frac{4 \cdot 2(x-1)(x+1)}{2(x-1)(x+1)} = \frac{x^2+x-3x-3 - \overbrace{(x^2-x-x+1)}^{\text{Klammern setzen!}} + 8(x^2+x-x-1)}{2(x-1)(x+1)} \\ &= \frac{x^2-2x-3-x^2+2x-1+8x^2-8}{2(x-1)(x+1)} = \frac{8x^2-12}{2(x-1)(x+1)} = \frac{4x^2-6}{(x-1)(x+1)} \end{aligned}$$

- **Multiplikation, Division:** Wie gewohnt (wie bei normalen Brüchen \rightarrow grund61.pdf).

Beispiel: $\frac{2}{(x+1)(x-1)} : \frac{10}{3x-3} = \frac{2}{(x+1)(x-1)} \cdot \frac{3x-3}{10} = \frac{2 \cdot 3(x-1)}{(x+1)(x-1) \cdot 10} = \frac{3}{5(x+1)}$

- **Doppelbrüche** als Quotienten schreiben. Beispiel:

$$\frac{\frac{m}{s}}{\frac{m}{s^2}} = \frac{m}{s} : \frac{m}{s^2} = \frac{m}{s} \cdot \frac{s^2}{m} = \frac{ms^2}{sm} = \frac{s}{1} = s$$

Meist lässt man den ersten Zwischenschritt weg und schreibt gleich direkt den Nenner des Nenners (hier s^2) in den Zähler.

- **Vorzeichen**

Auf Minuskammern achten (besonders beim Subtrahieren, siehe oben)!

Eventuell kann man in Zähler und Nenner (-1) ausklammern und kürzen. Beispiel:

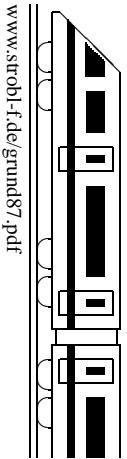
$$\frac{-x-1}{-x-7} = \frac{-(x+1)}{-(x+7)} = \frac{x+1}{x+7} \quad (\text{„Minus durch minus ist plus“})$$

Ein ausgeklammertes Minus des Zählers oder Nenners darf man auch vor den Bruch schreiben. Beispiel: $\frac{x}{-x-1} = \frac{x}{-(x+1)} = -\frac{x}{x+1}$ („Plus durch minus ist minus“)

(-1) -Trick: Will man (z. B. um kürzen zu können) eine Differenz „umdrehen“, so erreicht man dies durch Ausklammern von (-1) . Beispiel: $7 - x = -(-7 + x) = -(x - 7)$, also $\frac{7-x}{2x-14} = \frac{-(x-7)}{2(x-7)} = \frac{-1}{2} = -\frac{1}{2}$

¹Denn z. B. bei $(x-2)(x+7)$ sieht man Definitionsmenge usw. viel leichter als bei $x^2 + 5x - 14$.

²Eventuell empfiehlt es sich, in einer Nebenrechnung (NR) den Klammersausdruck gleich 0 zu setzen. Im ersten Beispiel: NR: $5x - a = 0; 5x = a; x = \frac{a}{5}$.



Beispiel:

$$f(x) = \frac{3x - 1}{2x - 2}$$

Definitionsbereich:

Da man nicht durch 0 dividieren darf, der Nenner unten also nicht 0 sein darf, ist $2x - 2 = 0$ verboten, also $2x = 2$, also $x = 1$ verboten. Erlaubt sind also alle Zahlen³ ohne die 1:

$$D = \mathbb{Q} \setminus \{1\}$$

Wertetabelle (mit Taschenrechner, hier gerundete Werte):

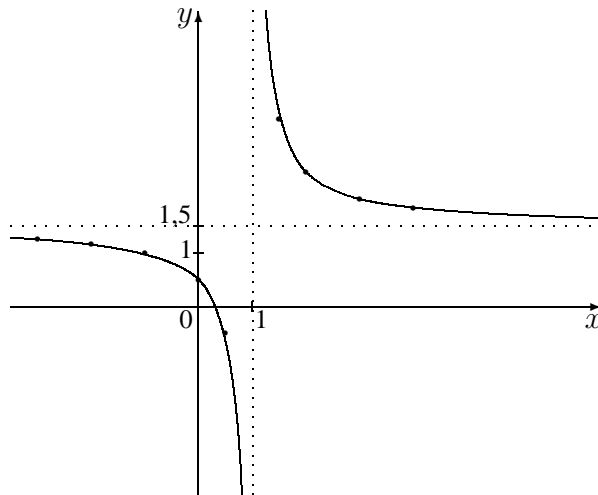
x	-3	-2	-1	0	1	2	3	4
y	1,25	1,17	1	0,5	↯	2,5	2	1,83

Besonders interessant sind Werte nahe der verbotenen 1 sowie sehr große x -Werte:

x	-100	0,5	0,9	1,1	1,5	100	1000
y	1,49	0,5	-23,5	26,5	3,5	1,51	1,501

Waagrechte Asymptote $y = 1,5$:

Bei sehr großen x -Werten nähert sich der y -Wert immer mehr dem Wert 1,5, d. h. der Graph nähert sich der waagrechten Geraden auf Höhe 1,5.



Senkrechte Asymptote (Pol):

In der Nähe der verbotenen Stelle $x = 1$ schmiegt sich der Graph (wegen der betragsmäßig sehr großen y -Werte) der senkrechten Geraden $x = 1$ an.

Wie in grund82.pdf gilt:

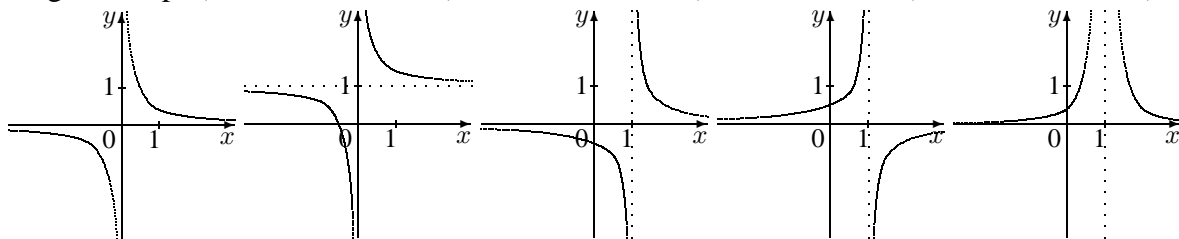
Den Schnittpunkt mit der y -Achse erhält man durch Einsetzen von $x = 0$, hier $(0|0,5)$.

Schnittpunkte mit der x -Achse (Nullstellen) erhält man, indem man den Funktionsterm gleich 0 setzt und die sich ergebende Bruchgleichung löst (\rightarrow grund88.pdf); hier ergibt sich (Zähler!) $3x - 1 = 0$, also $x = \frac{1}{3}$.

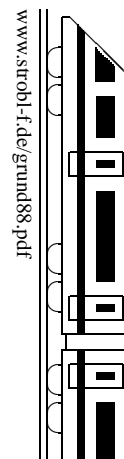
Spezialfall, Verschiebungen und Spiegelung des Graphen, weiteres Beispiel:

$$f(x) = \frac{0,4}{x} \quad f(x) = \frac{0,4}{x} + 1 \quad f(x) = \frac{0,4}{x-1} \quad f(x) = -\frac{0,4}{x-1} \quad f(x) = \frac{0,4}{(x-1)^2}$$

(Indir. Prop., (Verschiebung (Verschiebung (Spiegelung (Doppelte
 \rightarrow grund81.pdf) um 1 nach oben) um 1 nach rechts) an der x -Achse) Polstelle $x = 1$)



³Alle Zahlen, die wir kennen, also in der 8. Klasse rationale Zahlen \mathbb{Q} , ab der 9. Klasse reelle Zahlen \mathbb{R} .



Bruchgleichungen sind solche Gleichungen, in denen x unten im Nenner vorkommt.

Bruchgleichungen löst man, indem man mit dem Hauptnenner (HN) multipliziert.

Beispiel:

$$\frac{x}{x-1} - 1 = \frac{3}{x+2} \quad | \cdot HN$$

Betrachte Nenner: $x-1, x+2$

Definitionsmenge: $D = \mathbb{Q} \setminus \{1; -2\}$

(\mathbb{Q} ohne $\{1; -2\}$; 1 und -2 sind verboten, da sonst der Nenner 0 wird).

$$HN = (x-1)(x+2)$$

Bei der Multiplikation mit dem HN wird gleich $x-1$ beim Bruch auf der linken Seite und $x+2$ auf der rechten Seite gekürzt; nicht vergessen, die -1 mit HN zu multiplizieren!

$$x(x+2) - (x-1)(x+2) = 3(x-1)$$

Diese Gleichung löst man wie gewohnt. Rechne nach: $x = \frac{5}{2}$

Blick zurück auf die Definitionsmenge: $\frac{5}{2}$ ist nicht verboten, also $L = \{\frac{5}{2}\}$

Beachte:

- **Nenner faktorisieren:** Ausklammern, dann erst D und HN bestimmen.

- **Kreuzweise Multiplizieren**

Steht links und rechts des Gleichheitszeichens jeweils nur **ein** Bruch (nur dann!), dann wird der linke Nenner auf die rechte Seite und der rechte Nenner auf die linke Seite „hinübermultipliziert“. (Diese Methode kann man allgemein anwenden, wenn man zuerst linke und rechte Seite jeweils auf **einen** Bruchstrich bringt [\rightarrow grund86.pdf].)

Beispiel:

$$\begin{aligned} \frac{3}{x-1} &= \frac{2}{x+1} && \begin{array}{c} \nearrow \searrow \\ \times \end{array} \\ 3(x+1) &= 2(x-1) \end{aligned}$$

- Bruchgleichungen entstehen oft bei der Suche nach Schnittpunkten und Nullstellen bei gebrochen-rationalen Funktionen (\rightarrow grund87.pdf, ueb88.pdf).

Auflösen von Formeln

Multipliziere, wenn Brüche vorkommen, beide Seiten der Gleichung mit dem Hauptnenner. Multipliziere Klammern aus.

Bringe bei linearen Gleichungen (d. h. die gesuchte Größe kommt nicht im Nenner vor und nicht quadratisch [„hoch 2“] oder ähnlich) alle Stücke mit der gesuchten Variablen auf eine und den Rest auf die andere Seite (durch Addition/Subtraktion/siehe auch grund75.pdf).

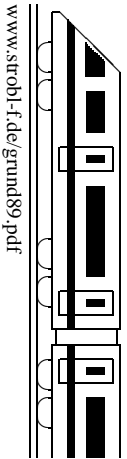
Klammere die gesuchte Variable aus und bringe den Klammerausdruck durch Division auf die andere Seite.

Beispiel: Löse nach R_1 auf:

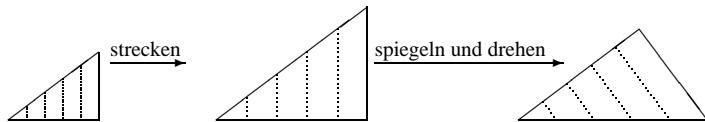
$$\frac{1}{R} = \frac{1}{R_1} + \frac{1}{R_2} \quad | \cdot RR_1R_2$$

Mit dem Hauptnenner RR_1R_2 beide Seiten der Gleichung multiplizieren:

$$\begin{aligned} R_1R_2 &= RR_2 + RR_1 && | - RR_1 \\ R_1R_2 - RR_1 &= RR_2 \\ R_1(R_2 - R) &= RR_2 && | : (R_2 - R) \\ R_1 &= \frac{RR_2}{R_2 - R} \end{aligned}$$



Ähnliche Figuren sehen bis auf die Größe gleich aus. Sie haben gleiche Winkel und gleiche Streckenverhältnisse. Bei der Betrachtung geometrischer Skizzen ist es meist hilfreich, sich eine Teilfigur gestreckt („aufgeblasen“) oder gestaucht („geschrumpft“) zu denken und in eine andere Teilfigur hineinzudrehen oder hineinzuspiegeln.



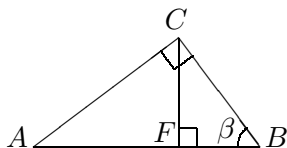
Schreibweise:
 $\Delta ABC \sim \Delta A'B'C'$

Für die **Ähnlichkeit von Dreiecken** genügt eines der folgenden Merkmale:

- Lauter gleiche Winkel
- Lauter gleiche Streckenverhältnisse
- Ein gemeinsamer Winkel und ein gemeinsames Streckenverhältnis, und zwar das Verhältnis der Seiten, die diesen Winkel einschließen (oder von zwei anderen Seiten, sofern die größere Seite dem Winkel gegenüber liegt).

Beispiele:

- Ein **rechtwinkliges Dreieck** wird durch die Höhe auf der Hypotenuse in zwei Teildreiecke zerlegt. Dann ist jedes der Teildreiecke zum ganzen Dreieck ähnlich:



$\Delta FBC \sim \Delta ABC$

Begründung: Die Dreiecke haben beide einen rechten Winkel und den gemeinsamen Winkel β , sind daher ähnlich.

Also stimmen auch die entsprechenden Streckenverhältnisse überein.

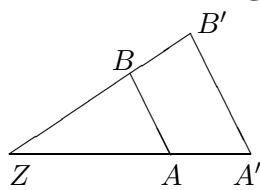
Dabei entsprechen die nebenstehenden Seiten einander:

	im ΔFBC	im ΔABC	
	$\frac{BC}{FC}$	$\frac{AB}{AC}$	dem rechten Winkel gegenüber
	$\frac{FC}{FB}$	$\frac{AC}{BC}$	dem Winkel β gegenüber
			an beiden Winkeln anliegend

Also kann man z. B. folgendes Streckenverhältnis bilden: $\frac{BC}{FB} = \frac{AB}{BC}$

Nach kreuzweiser Multiplikation folgt: $BC^2 = AB \cdot FB$.

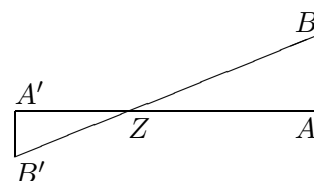
- **Strahlensatz V-Figur**



Ist $AB \parallel A'B'$, so ist $\Delta ZAB \sim \Delta ZA'B'$, da dann die Dreiecke lauter gleiche Winkel haben.

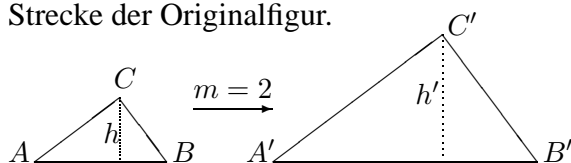
Somit gelten: $\frac{ZA}{ZB} = \frac{ZA'}{ZB'}$ und $\frac{ZA}{AB} = \frac{ZA'}{A'B'}$

Strahlensatz X-Figur



Streckungsfaktor m

In ähnlichen Figuren ist jede Strecke der Bildfigur m -mal so lang wie die entsprechende Strecke der Originalfigur.



$A'B' = m \cdot AB$ usw.

Bei $m > 1$ erhält man eine Vergrößerung, bei $0 < m < 1$ eine Verkleinerung.

Beachte: Flächeninhalte werden dabei mit dem Faktor m^2 vergrößert:

$A_{\Delta A'B'C'} = \frac{1}{2} A'B' \cdot h' = \frac{1}{2} m AB \cdot mh = m^2 A_{\Delta ABC}$

Kreismessung

Mit der Kreiszahl $\pi \approx 3,14$ (für Überschlagsrechnungen $\pi \approx 3$) berechnet man für einen Kreis mit Radius r ($= \frac{d}{2}$ = halber Durchmesser):

Kreisumfang $u = 2r\pi$

Kreisfläche $A = r^2\pi$

Insbesondere gilt also: Bei doppeltem Radius r ist der Umfang u doppelt (Proportionalität), bei 2-fachem r ist die Fläche A 4-fach (quadratischer Zusammenhang).

Hat man Teile von Kreisen (z. B. Viertelkreis), nimmt man den entsprechenden Bruchteil.

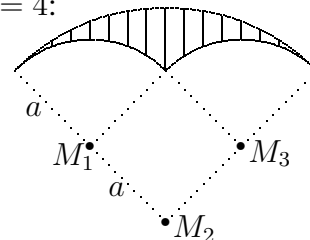
Beispiel: Umfang u und Fläche A der nebenstehenden Figur für $a = 4$:

Die Figur besteht aus einem Viertelkreis um M_2 mit Radius

$R = 2a$ und zwei Viertelkreisbögen um M_1, M_3 mit $r = a$.

$$u = \frac{1}{4} \cdot 2R\pi + 2 \cdot \frac{1}{4} \cdot 2r\pi = \frac{1}{4} \cdot 2 \cdot 2a\pi + a\pi = 2a\pi = 8\pi \approx 25,13.$$

$$A = \frac{1}{4}R^2\pi - 2 \cdot \frac{1}{4}r^2\pi - a^2 = \frac{1}{4}(2a)^2\pi - \frac{1}{2}a^2\pi - a^2 = \\ = \frac{1}{4} \cdot 4a^2\pi - \frac{1}{2}a^2\pi - a^2 = \frac{1}{2}a^2\pi - a^2 = 8\pi - 16 \approx 9,13$$

**Ungleichungen**

Es gelten die gleichen Regeln wie beim Lösen von Gleichungen, mit folgender Besonderheit: Multipliziert/dividiert man eine Ungleichung mit einer negativen Zahl, so muss das Ungleichungszeichen umgekehrt werden.

Beispiel:

$$\begin{array}{rcl} -11x + 3 < 7 & | -3 \\ -11x < 4 & | : (-11) \quad (!) \\ x > -\frac{4}{11} & L =] -\frac{4}{11}; \infty[\end{array}$$

Die Lösungsmengen sind Intervalle; man schreibt die kleinere Grenze links, die größere rechts; ist die Klammer auswärts gerichtet, so gehört die jeweilige Grenze nicht mehr zum angegebenen Bereich; dagegen z. B. bei $] -\infty; 1]$ gehört die rechte Grenze 1 noch zum Intervall dazu. Bei $\pm\infty$ (unendlich) ist die Klammer stets auswärts gerichtet.

Schreibweise auch: $\{x|x > -\frac{4}{11}\}$ bzw. $\{x|x \leq 1\}$ (Menge aller x mit der Eigenschaft ...).

Potenzen mit negativen Exponenten (\rightarrow grund51.pdf, grund53.pdf, grund62.pdf, grund74.pdf)

Negative Exponenten sagen: „Ich stehe im Nenner“: $a^{-x} = \frac{1}{a^x}$.

Beispiele: $ms^{-1} = \frac{m}{s}$; $10^{-6} = \frac{1}{10^6} = \frac{1}{1000000}$; $2^{-3} = \frac{1}{2^3} = \frac{1}{8}$. Ferner: $a^0 = 1$.

Rechenregeln: • $a^x \cdot a^y = a^{x+y}$. Beispiel: $x^2 \cdot x^4 = x^6$

$$a^x : a^y = a^{x-y}. \text{ Beispiel: } \frac{a^5}{a^2} = a^5 \cdot a^{-2} = a^3$$

$$\bullet (ab)^x = a^x b^x. \text{ Beispiel: } (2x)^{-3} = 2^{-3} x^{-3} = \frac{1}{8} \cdot \frac{1}{x^3}$$

$$\left(\frac{a}{b}\right)^x = \frac{a^x}{b^x}. \text{ Beispiel: } \left(\frac{x}{3}\right)^{-4} = \frac{x^{-4}}{3^{-4}} = \frac{\frac{1}{x^4}}{\frac{1}{3^4}} = \frac{3^4}{x^4} = \frac{81}{x^4} = 81x^{-4}$$

$$\bullet (a^x)^y = a^{x \cdot y}. \text{ Beispiel: } (3^5)^{-2} = 3^{5 \cdot (-2)} = 3^{-10}$$

Zehnerpotenzen (zur Angabe sehr kleiner Zahlen):

Beispiel: $3,5 \cdot 10^{-6} \text{ m} = 3,5 \cdot \frac{1}{10^6} \text{ m} = 0,000\,003\,5 \text{ m} = 3,5 \mu\text{m}$

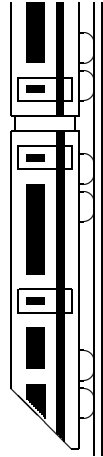
Manche Taschenrechner (TR) zeigen Zehnerpotenzen im Display z. B. so an: $\boxed{3,5^{-06}}$; dies muss aber mit „10 hoch“ auf das Papier geschrieben werden: $3,5 \cdot 10^{-6}$

Umgekehrt: Eingabe einer Zehnerpotenz mit dem TR: Meist Exp- oder EE-Taste. Beispiele:

73 Millionen = $73 \cdot 10^6 = 7,3 \cdot 10^7$: Tippe 7,3 $\boxed{\text{Exp}}$ 7

$10^{-12} = 1 \cdot 10^{-12}$: Tippe 1 $\boxed{\text{Exp}}$ 12 $\boxed{+/-}$ (Display: $\boxed{1^{-12}}$)

Je nach Taschenrechner kann man die Anzeige von Zehnerpotenzen mit gewissen Tastenkombinationen ändern, z. B. MODE 9 oder ENG oder FSE, siehe Bedienungsanleitung des Taschenrechners.



8. Klasse TOP 10 Grundwissen

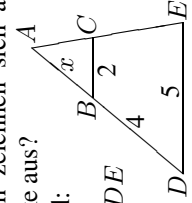
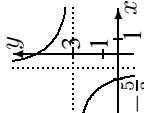
Kernsätze

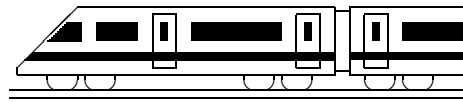
08

K

www.strobl-f.de/grund8k.pdf

Blatt auf DIN A 3 vergrößern, Karteikarten ausschneiden und Rückseite an Rückseite zusammenkleben!

<p>Proportionalität</p> <p>81</p> <p>Nenne vier Kennzeichen einer direkten Proportionalität!</p>	<p>Funktionen verstehen</p> <p>82</p> <p>Wie kann man Funktionsgraphen immer zeichnen? Wie berechnet man Nullstellen? Wie berechnet man den Schnittpunkt zweier Funktionen?</p>	<p>Lineare Funktionen</p> <p>83</p> <p>Wie zeichnet man den Graphen einer linearen Funktion mit dem Term $y = mx + t$? Beispiel: $y = -\frac{3}{2}x + 4$</p>	<p>Lineare Gleichungssysteme</p> <p>84</p> <p>Wie funktioniert das Einsetz- bzw. Additionsverfahren? Beispiel: I $3x - 2y = 0$ II $5x + 3y = 38$</p>	<p>Wahrscheinlichkeit</p> <p>85</p> <p>Wie berechnet man in Laplace-Experimenten Wahrscheinlichkeiten?</p>
<p>Rechnen mit Bruchtermen</p> <p>86</p> <p>Warum braucht man eine Definitionsmenge? (Beispiel: $\frac{1}{2x+1}$). Wann darf man kürzen? Wie addiert/subtrahiert man? (Beispiel: $\frac{1}{x+2} - \frac{1}{x}$). Wie multipliziert/dividiert man?</p>	<p>Gebrochen-rationale Funktionen</p> <p>87</p> <p>Was sind Polstellen? Wie bestimmt man Nullstellen? Wie erkennt man eine waagrechte Asymptote? Beispiel: $f(x) = \frac{2}{x+1} + 3 = \frac{5+3x}{x+1}$</p>	<p>Bruchgleichungen</p> <p>88</p> <p>Wie löst man Bruchgleichungen? Beispiel: $\frac{x}{x-1} - 1 = \frac{3}{x}$ ($D = \mathbb{Q} \setminus \{0; 1\}$)</p>	<p>Strahlensatz, Ähnlichkeit</p> <p>89</p> <p>Wodurch zeichnen sich ähnliche Dreiecke aus? Beispiel: $BC \parallel DE$</p> 	<p>Kreis, Ungleichung, Potenz</p> <p>810</p> <p>Kreisumfang $u = ?$ Kreisfläche $A = ?$ Was muss man beim Mult./Div. einer Ungleichung beachten? Was besagt der negative Exponent in a^{-n}?</p>
<p>Der Nenner darf nicht 0 werden (Beispiel: $D = \mathbb{Q} \setminus \{-\frac{1}{2}\}$). Kürzen nur bei Produkten, nicht bei Summen! Add./subtr. mit gemeins. Nenner ($\frac{x}{(x+2)x} - \frac{x+2}{(x+2)x} = -\frac{2}{(x+2)x}$). Mult./div. wie in der 6. Klasse!</p>	<p>Pol: Senkrechte Asymptote; hier an Definitionslücke $x = -1$. Nst: $f(x) = 0$; hier $5 + 3x = 0$. Waagr. As.: Setze große x-Werte ein; hier: $y = 3$. Graph: Wertetabelle!</p> 	<p>Bruchgleichungen lösen man, indem man mit dem Hauptnenner multipliziert (oder kreuzweise, wenn li. und re. nur ein Bruch). Beispiel: $\frac{x}{x-1} - 1 = \frac{3}{x} \quad \cdot x(x-1)$ $x^2 - x(x-1) = 3(x-1)$ $x = 3x - 3; x = 1,5; L = \{1,5\}$</p>	<p>Gleiche Winkel. Gleiche Verhältnisse entsprechender Seiten. Beispiel: $\triangle ABC \sim \triangle ADE$ $\frac{AB}{BC} = \frac{AD}{DE}$ $\frac{x}{2} = \frac{x+4}{5}$ $5x = 2(x+4); x = \frac{8}{3}$</p>	<p>Kreis, Ungleichung, Potenz</p> <p>810</p> <p>$u = 2r\pi, A = r^2\pi$. Beim Multiplizieren/Dividieren einer Ungleichung mit einer negativen Zahl muss man das Ungleichungszeichen umdrehen. Negativer Exponent: „Ich stehe im Nenner“, $a^{-n} = \frac{1}{a^n}$</p>



8. Klasse Übungsaufgaben	8
Proportionalität	01

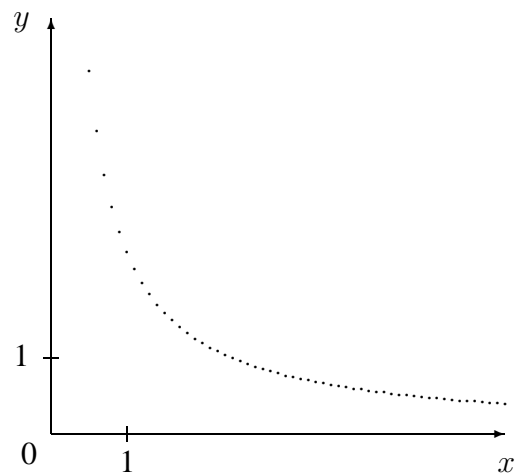
1. Ein Fuhrunternehmen soll 180 m^3 Erde abtransportieren. Mit 20 Fahren hat er schon 120 m^3 Erde abgefahren. Wie viele Fahren sind insgesamt erforderlich? Löse diese Aufgabe (\rightarrow grund81.pdf)

- (a) mit Schlussrechnung, (b) mit Hilfe eines Diagramms.

2. Ein Fuhrunternehmer benötigt zum Abfahren der Erde mit 3 Lkws 20 Stunden. Wie lange wäre er mit 5 Lkws benötigen? Begründe hierzu, warum und unter welchen Bedingungen es sich um eine indirekte Proportionalität handelt. Diskutiere verschiedene Lösungsmöglichkeiten.

3. Eine Lehrkraft kauft für 50 Schüler (verschiedener Klassen) einen Bastelmaterial-Vorrat im Wert von 80 Euro. Erstelle eine Wertetabelle, aus der jeweils abgelesen werden kann, wieviel Geld in einer Klasse mit x Schülern insgesamt eingesammelt werden muss. Stelle den Zusammenhang graphisch und mit einer Gleichung dar. Lies aus dem Diagramm ab, wie viel Geld in einer Gruppe von 5 Schülern eingesammelt werden muss. Lies aus dem Diagramm ferner ab, aus wie vielen Schülern eine Gruppe besteht, die insgesamt 12,80 Euro bezahlt hat.

4. Lies aus dem Diagramm drei Werte ab und prüfe, ob es sich um eine indirekte Proportionalität handelt. Stelle gegebenenfalls die Gleichung auf.

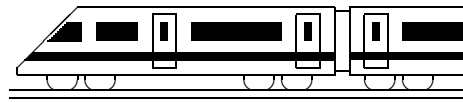


5. Auf eine Fähre fahren mehrere Fahrzeuge, darunter 21 Pkws (das sind 84 %), 2 Busse und der Rest Lkws. Um welche Art Proportionalität handelt es sich bei den folgenden Zuordnungen:

- (a) Prozentsatz \mapsto Zahl der Fahrzeuge.
(b) Zahl der Fahrzeuge \mapsto Prozentsatz
(c) Prozentsatz \mapsto Winkel in einem Kreisdiagramm

Stelle die Anzahl der Fahrzeuge in einem Kreisdiagramm dar.

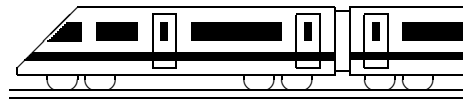
6. Für den Zusammenhang zwischen Masse m , Dichte ρ und Volumen V gilt die Formel $m = \rho \cdot V$. Eine Lehrkraft führt den Schülern gleich schwere Körper verschiedener Dichte vor, und zwar aus Platin ($\rho = 21 \frac{\text{kg}}{\text{dm}^3}$), Silber ($\rho = 10,5 \frac{\text{kg}}{\text{dm}^3}$) und Keramik ($\rho = 2,1 \frac{\text{kg}}{\text{dm}^3}$). Was kann man dann über die Volumina sagen?



8. Klasse Übungsaufgaben	8
Funktionen verstehen	02

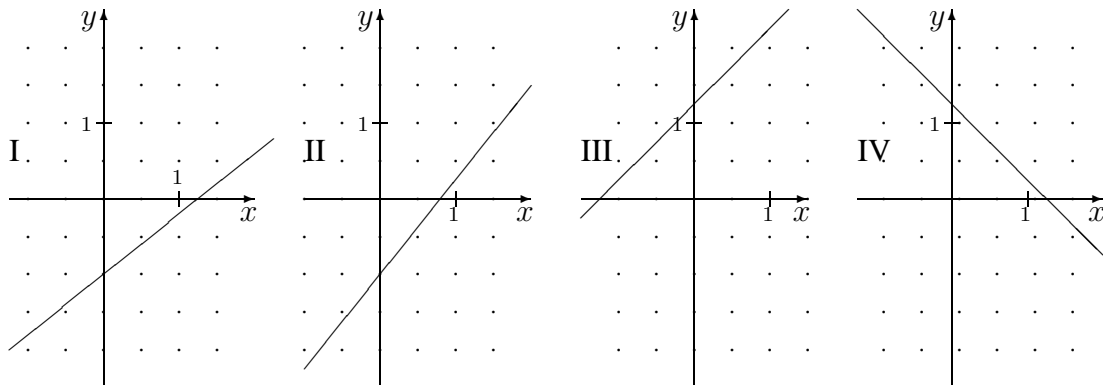
- (a) Wie ändert sich die Wertetabelle, wie der Funktionsgraph, wenn man anstelle der Funktion $y = x^2$ die Funktion $y = x^2 + 3$ betrachtet?
Warum kann man auch ohne Zeichnung etwas über die Symmetrie der Funktionsgraphen sagen?

(b) Wie ändert sich die Wertetabelle, wie der Funktionsgraph, wenn man anstelle der Funktion $y = x^2$ die Funktion $y = 3x^2$ betrachtet?
- Eine Fahrradverleih erwägt die Anschaffung eines Mountain-Bikes zu 1800 Euro, muss dabei pro Jahr einen Wertverlust von 200 Euro kalkulieren, oder eines Cityrads zu 800 Euro bei 70 Euro jährlichem Wertverlust. Welche anschauliche Bedeutung hat dann der Schnittpunkt der durch $y = -200x + 1800$ und $y = -70x + 800$ gegebenen Funktionen? Berechne diesen. Überzeuge dich bei der Berechnung des y -Werte davon, dass beide Funktionsterme das gleiche Ergebnis liefern.
- Bearbeite für $y = -0,5x + 2$: Wertetabelle, Funktionsgraph, Schnittpunkte mit x - und y -Achse, Punkte auf dem Graphen $P(2; ?)$ und $Q(?, 5)$. Gib einen Punkt $R(100; ?)$ an, der unterhalb des Funktionsgraphen liegt!
- Wie könnte man rechnerisch untersuchen, ob sich drei durch die Funktionsgleichungen gegebenen Geraden in einem Punkt schneiden?
- Wie liegen die durch $y = x^2 + 1$ und $y = -x^2 - 1$ gegebenen Funktionsgraphen zueinander?
- Finde heraus, welchen Wert der Parameter a im Funktionsterm $f(x) = x^2 - 2x + a$ haben muss, damit der Punkt $P(-3; -4)$ auf dem Funktionsgraphen liegt.

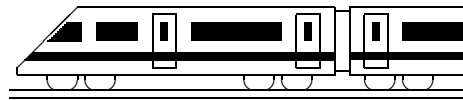


8. Klasse Übungsaufgaben	8
Lineare Funktionen	03

1. Gegeben sind die folgenden Funktionsgraphen:



- (a) Welcher der vier Graphen gehört zur Gleichung $y = \frac{5}{4}x - 1$?
- (b) Wie lautet die Gleichung zum Graphen III?
- 2. (a) Welche Steigung hat die Gerade durch die Punkte $P(0; 3)$ und $Q(2; -3)$? Wie lautet also die Funktionsgleichung?
- (b) Stelle die Gleichung der Geraden durch die Punkte $P(1; 3)$ und $Q(3; -1)$ auf!
- 3. Die Gerade $y = -7x$ wird an der x -Achse gespiegelt und anschließend um 3 Einheiten nach unten verschoben. Wie lautet die neue Gleichung?
- 4. (a) Beschreibe in Worten die Lage der Geraden mit der Gleichung $y = -1$!
- (b) Beschreibe in Worten die Lage der Geraden mit der Gleichung $x + y = -2$!
- 5. Zeichne die Geraden $y = 3x - 2$ und $y = -\frac{3}{4}x + 1$ in ein Koordinatensystem. Bestimme die Nullstellen und den Schnittpunkt.
- 6. Ein Lieferwagen, der mit 1,2 t beladen ist, transportiert x Säcke zu je 25 kg und y Kisten zu je 150 kg. Stelle den Zusammenhang zwischen x und y in einem Diagramm dar. Welche Punkte $(x; y)$ sind möglich, wenn der Lieferwagen mit *maximal* 1,2 t beladen ist?

**8. Klasse Übungsaufgaben****8****Lineare Gleichungssysteme****04**

1. Löse folgende Gleichungssysteme:

$$(a) \quad \begin{aligned} 6x + 5y &= -36 \\ -7x + 3y &= -11 \end{aligned}$$

$$(b) \quad \begin{aligned} 2x - 6y &= 1 \\ x - y &= 1 \end{aligned}$$

2. Löse das Gleichungssystem rechnerisch und graphisch:

$$\begin{aligned} y &= 2x - 1 \\ x &= \frac{1}{2}y + 3 \end{aligned}$$

3. Lineare Gleichungssysteme mit mehreren Variablen — Musteraufgabe

In der Regel empfiehlt sich das Additionsverfahren, wobei man zunächst aus je zwei verschiedenen Gleichungen dieselbe Variable eliminiert. Beispiel:

$$\begin{array}{lcl} \text{I} & 3a - 2b + 5c & = 13 & \left| \cdot 1 \right. \\ \text{II} & -a + 3b + 4c & = -1 & \left| \cdot 3 \right. \\ \text{III} & 5a + 6b - c & = 3 & \left| \cdot 1 \right. \\ \hline \text{IV (aus I, II)} & 7b + 17c & = 10 & \left| \cdot 3 \right. \\ \text{V (aus II, III)} & 21b + 19c & = -2 & \left| \cdot (-1) \right. \\ \hline & 32c & = 32 & \Rightarrow \underline{c = 1} \\ \text{in IV} & 7b + 17 \cdot 1 & = 10 & \Rightarrow \underline{b = -1} \\ \text{in I} & 3a - 2 \cdot (-1) + 5 \cdot 1 & = 13 & \Rightarrow \underline{a = 2} \\ & L & = & \{(2; -1; 1)\} \end{array}$$

Löse nun selbst folgendes Gleichungssystem:

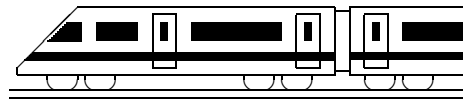
$$\begin{aligned} 2x + y - 3z &= 5 \\ 3x - 2y + z &= 6 \\ 4x + 3y - 2z &= 16 \end{aligned}$$

4. Bestimme für die Gleichung $y = mx + t$ die Zahlen m und t , wenn für $(x; y)$ die Punkte $(2; 3)$ und $(-1; 5)$ eingesetzt werden können.

5. Klaus zahlt für 17 normale und 2 Farbkopien 9,84 Euro, Claudia für 1 Farbkopie und 39 normale Kopien 8,58 Euro. Wie viel kostet eine Farbkopie?

6. Franzi und Nikola sparen auf einen DVD-Player. Franzi besitzt 50 Euro und kann jeden Monat 5 Euro dazulegen. Nikola beginnt 2 Monate später mit 0 Euro zu sparen, kann aber jeden Monat 10 Euro sparen. Beide können zum selben Zeitpunkt das gleiche Gerät kaufen. Löse graphisch, wann und zu welchem Preis der DVD-Player gekauft wird.

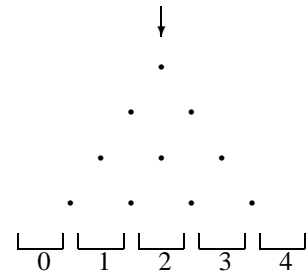
Entnimm der Grafik: Wie sieht die Situation vor diesem Zeitpunkt aus? Wie sieht die Situation für einen DVD-Rekorder einer anderen Marke zum Preis von 150 Euro aus?



8. Klasse Übungsaufgaben	8
Wahrscheinlichkeiten, Laplace-Experimente	05

1. Warum ist das Beispiel in grund85.pdf in Wirklichkeit kein Laplace-Experiment?

2. Ein Galton-Brett ist ein vertikal aufgestelltes Brett mit einem Gitter von Nägeln. Die auf den ersten Nagel oben fallende Kugel wird dort nach rechts oder links abgelenkt und trifft dann auf die Nägel der nächsten Reihe. Schließlich fällt sie unten in eines der Fächer. Die Abbildung rechts zeigt ein 4-stufiges Galton-Brett.



Warum ist zur Berechnung von Wahrscheinlichkeiten die Aufzählung der Fach-Nummern $\Omega = \{0, 1, 2, 3, 4\}$ eher ungünstig? Wie muss Ω gewählt werden, damit es ein Laplace-Raum ist? Berechne die Wahrscheinlichkeit, dass die Kugel in Fach 0 fällt! Berechne die Wahrscheinlichkeit, dass sie in Fach 3 fällt!

3. Ein Rommé-Blatt besteht aus 110 Karten: Herz (rot), Karo (rot), Kreuz (schwarz), Pik (schwarz), jeweils 2, 3, 4, ..., 10, Bube (Wert 10), Dame (10), König (10), As (11), je 2 -mal, dazu 6 Joker (20). Eine Karte wird zufällig gezogen.

Berechne die Wahrscheinlichkeiten folgender Ereignisse:

- | | |
|---|-----------------------|
| A: „Es wird ein As (kein Joker) gezogen“ | $E = A \cap D$ |
| B: „Es wird eine rote Karte (kein Joker) gezogen“ | $F = A \cap B$ |
| C: „Es wird ein Joker gezogen“ | $G = A \cup B \cup C$ |
| D: „Es werden weniger als 5 Augen gezogen“ | $H = \bar{D}$ |

Formuliere E, F, G und H in Worten.

4. In der Kantine gibt es als Mittagessen zur Wahl: Apfelstrudel, Brathuhn oder Currywurst. Drei Personen stehen Schlange und nennen der Reihe nach ihren Wunsch.

Erstelle ein Baumdiagramm!

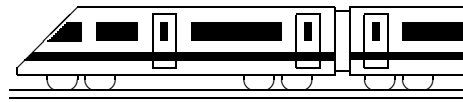
Wie groß ist bei Annahme eines Laplace-Modells die Wahrscheinlichkeit des Ereignisses E , dass die Wünsche nicht alle erfüllt werden können, wenn der Koch von jedem Gericht nur noch eines vorrätig hat?

5. An der Garderobe werden an 4 Gäste im Dunkeln 4 Mäntel zurückgegeben.

- (a) Berechne die Wahrscheinlichkeit, dass kein Gast den eigenen Mantel erhält.
- (b) Zuerst werden 2 Mäntel an ein Ehepaar ausgegeben. Berechne die Wahrscheinlichkeit, dass es genau die Mäntel der beiden Ehepartner sind.
Hinweis: Diese Teilaufgabe kann sowohl mit Berücksichtigung der Reihenfolge als auch ohne Berücksichtigung der Reihenfolge gelöst werden.

6. In der Bibliothek stehen 10 verschiedene Bände einer beliebigen Jugendbuch-Serie. 4 Schüler äußern jeweils einen Buch-Wunsch. Betrachte im Laplace-Modell das Ereignis E : „Jeder Schüler wünscht ein anderes Buch“. Zeige: $P(E) \approx 50\%$.

Angenommen, bei 10-maliger Durchführung dieses Experiments tritt das Ereignis E nur 2-mal ein. Beweist dies, dass die Laplace-Annahme falsch war?



8. Klasse Übungsaufgaben	8
Rechnen mit Bruchtermen	06

1. Bestimme die Definitionsmenge:

(a) $\frac{5x^2 - a}{36x^2 - 16x}$

(b) $\frac{1}{x - 6} - \frac{1}{6x + 1}$

2. Vereinfache:

(a) $\frac{45x - 20}{36x^2 - 16x}$

(b) $\frac{(ab)^2}{a^3b - a^2b^3}$

3. Bringe auf einen Bruchstrich: $\frac{1}{R_1} + \frac{1}{R_2} + \frac{1}{R_1 + R_2}$

4. Vereinfache:

(a) $\frac{1}{x - 1} - \frac{1}{x + 2}$

(b) $\frac{24 - x}{x + 3} - 8$

(c) $\frac{6x^2 + 5}{36x^2 - 16x} + \frac{3x}{8 - 18x}$

(d) $\frac{6x + 11}{2x + 4} - \frac{2x + 5}{x^2 + 2x} - 3$

5. Vereinfache:

(a) $\frac{74x - 34}{x + 1} \cdot \frac{x^2 + 1}{74x + 34}$

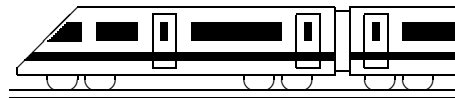
(b) $\frac{az}{z - a} : \frac{a^2z^3}{az - a^2}$

6. Vereinfache:

(a) $\frac{J}{C}$

(b) $\frac{J}{C}$

(c) $\frac{\frac{1}{x^2} - 2}{1 - \frac{1}{x}}$



8. Klasse Übungsaufgaben	8
Gebrochen-rationale Funktionen	07

1. Zeichne mit Hilfe einer Wertetabelle die Graphen zu folgenden Funktionsgleichungen; bestimme waagrechte und senkrechte Asymptote.

(a) $y = \frac{2x}{x+3}$ (b) $y = -\frac{2}{x} + \frac{3}{2}$ (c) $y = \frac{1-x}{2x+3}$ (d) $y = \frac{5}{(3x+2)^2}$

2. Zeichne den Graphen der Funktion $f(x) = \frac{3}{x}$ und bestimme damit die Graphen von $g(x) = -\frac{3}{x} - 2$, $h(x) = \frac{3}{x+1,5}$ und $k(x) = \frac{1,5}{x}$

3. Bestimme den Definitionsbereich:

(a) $f(x) = \frac{1}{x(x-5)}$ (b) $f(x) = \frac{7x-3}{8x-5}$ (c) $f(x) = \frac{x^3}{(x-1)^2} + 7x$

4. Anwendungsbeispiele:

(a) Zur Bestimmung der Schwerkraft y (in N) auf einen Körper der Masse 1 kg in der Entfernung x von der Erdoberfläche (in km) gilt die Formel $y = \frac{4 \cdot 10^8}{(6370+x)^2}$.

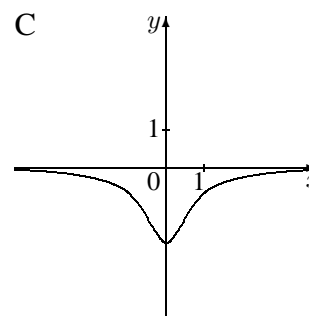
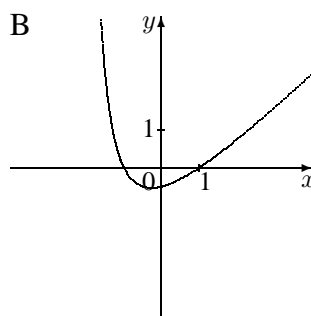
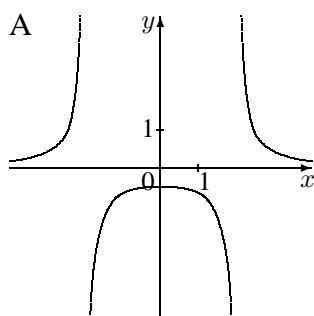
Was erhält man für $x = 0$? Was für sehr große x -Werte?

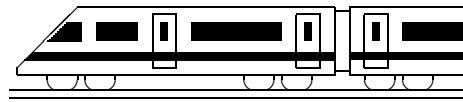
(b) Ist K_{alt} das Anfangskapital eines Aktienbesitzers und K_{neu} das Endguthaben bei der Rendite („Zinssatz“) x (als Dezimalzahl, also $x = 0,03$ bei 3 %), so berechnet man das Endguthaben mit $K_{\text{neu}} = K_{\text{alt}} \cdot (1+x)$. Umgekehrt war also das Anfangsguthaben $K_{\text{alt}} = \frac{K_{\text{neu}}}{1+x}$ bzw. als Funktionsterm geschrieben z. B. bei $K_{\text{neu}} = 15000$:

$$f(x) = \frac{15000}{1+x}$$

Wie müssten in diesem Beispiel negative x -Werte (z. B. $x = -0,8$) interpretiert werden? Wie die Definitionslücke? Wie die waagrechte Asymptote?

5. Ordne die Funktionsterme $f(x) = -\frac{4}{4x^2+2}$, $g(x) = \frac{2}{x^2-4}$ und $h(x) = \frac{x^2-1}{x+2}$ den folgenden Graphen zu; begründe!





8. Klasse Übungsaufgaben	8
Bruchgleichungen, Formeln auflösen	08

1. Löse folgende Bruchgleichungen:

(a) $\frac{2}{5x+15} = \frac{1}{10}$

(b) $\frac{2}{x-3} = \frac{3}{x-1}$

(c) $\frac{3x^2}{x-1} - 3x = \frac{1}{x-1} + 2$

(d) $\frac{3x^2}{x-1} - 3x = \frac{3}{x-1} + 2$

(e) $\frac{5}{2x+6} - \frac{1-0,25x^2}{x^2+3x} = \frac{1}{4}$

2. Zeichne die Graphen zu den Termen $f(x) = \frac{x}{x-2}$ und $g(x) = \frac{1}{3}x$ in ein Koordinatensystem.

Bestimme rechnerisch die Nullstelle von f , denjenigen x -Wert mit $f(x) = -3$ und die Schnittpunkte von f und g .

3. Löse folgende Formeln nach den angegebenen Variablen auf:

(a) $c_1 m_1 (\vartheta_1 - \vartheta_m) = c_2 m_2 (\vartheta_m - \vartheta_2)$ nach ϑ_m

Tipps: Führe der Reihe nach folgende Schritte durch:

(1) Klammern ausmultiplizieren.

(2) Alle Stücke mit ϑ_m nach rechts, alle anderen nach links.

(3) ϑ_m ausklammern.

(4) Die Klammer auf die andere Seite dividieren.

(b) $\frac{B}{G} = \frac{b}{g}$ nach g

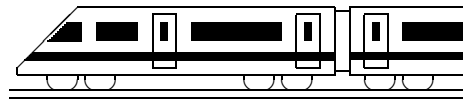
(c) $\frac{1}{f} = \frac{1}{g} + \frac{1}{b}$ nach g

(d) $\frac{1}{f} = \frac{1}{g} + \frac{1}{b}$ nach f

(e) $\rho_a V g = m g + \rho_i V g$ nach V

4. Löse nach a auf: $\frac{a}{a-x} = 3$

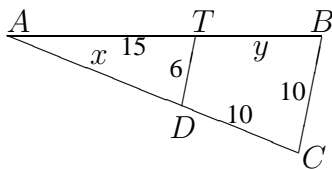
Mache die Probe, indem Du das Ergebnis für a einsetzt und vereinfachst.



8. Klasse Übungsaufgaben	8
Strahlensatz, Ähnlichkeit, Streckung	09

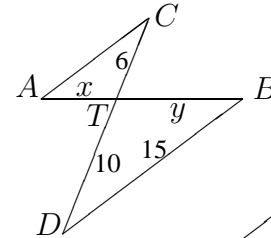
1. Bestimme jeweils x und y ; in welchem Verhältnis teilt T die Strecke $[AB]$?

(a) $DT \parallel CB$

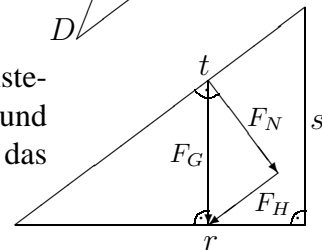


(b) $\overline{AB} = 15$

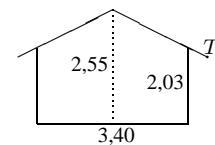
$AC \parallel DB$



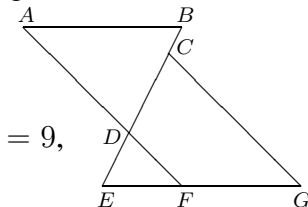
2. In der Physik werden manchmal Skizzen wie die nebenstehende betrachtet (mit $F_H \parallel t$). Warum sind das von r, s, t und das von F_N, F_H, F_G gebildete Dreieck ähnlich? Ergänze das Streckenverhältnis: $\frac{F_H}{F_G} = \dots$.



3. Beim nebenstehenden Gartenhaus (Maße in m) beträgt der Dachüberstand 0,10 m, so dass die bedachte Länge 3,60 m beträgt. In welcher Höhe über dem Boden befindet sich dann die Dachrinne T ?

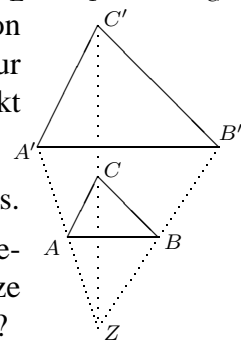


4. (a) Stelle die Formeln in den Strahlensätzen aus grund89.pdf so um, dass das Verhältnis der Streckenstücke, die auf einer Geraden liegen, auf der einen Gleichungsseite steht: $\frac{ZA}{ZA'} = \dots = \dots$



(b) Forme weiter um: $\frac{ZA}{AA'} = \dots = \dots$

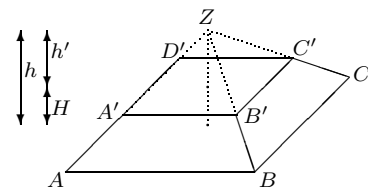
(c) In nebenstehender Skizze ist $\overline{AB} = 12$, $\overline{EF} = 6$, $\overline{FG} = 9$, $\overline{CG} = 14$, $AB \parallel EG$ und $AF \parallel CG$. Berechne \overline{AD} .



5. Bei zentrischen Streckungen gibt es ein Streckungszentrum Z , von dem aus eine Figur (z. B. das Dreieck $\triangle ABC$) zur Bildfigur ($\triangle A'B'C'$) gestreckt wird. Z liegt auf den Geraden Punkt-Bildpunkt (also AA' , BB' , CC').

(a) Drücke den Streckungsfaktor m auf verschiedene Weisen aus.

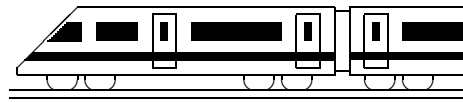
(b) Es gibt auch zentrische Streckungen mit $m < 0$. A und A' liegen dann auf verschiedenen Seiten von Z . Fertige eine Skizze für $m = -\frac{1}{2}$ an. Welcher Spezialfall ergibt sich für $m = -1$?



6. Einen Pyramidenstumpf kann man sich denken als eine große Pyramide, der man eine zentrisch verkleinerte Pyramide weggenommen hat.

(a) Gegeben sind $\overline{AB} = 5$, $\overline{A'B'} = 3$ und die Pyramidenstumpf-Höhe $H = 1$. Bestimme den Streckungsfaktor m und die Höhe h der Gesamtpyramide.

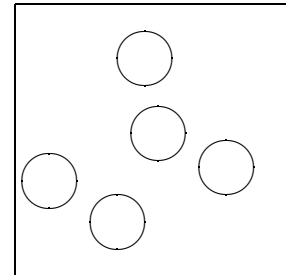
(b) Vergleiche mit der Pyramiden-Volumen-Formel $V_{\text{Pyr}} = \frac{1}{3}Gh$ (Grundfläche G , Höhe h) die Volumina der ganzen und der oberen kleinen Pyramide.



8. Klasse Übungsaufgaben	8
Miszellaneen: Kreis, Ungleichung, Potenz	10

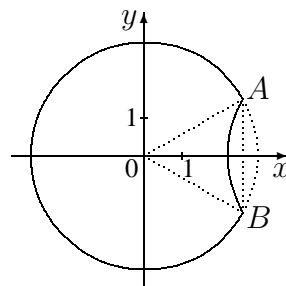
1. Miszellaneen (Vermischtes)

- (a) Berechne die Querschnittsfläche eine $50 \mu\text{m}$ dicken Haars. Wie viele Haare haben zusammen eine Querschnittsfläche von 1 cm^2 ? Schreibe das Ergebnis mit Hilfe einer Zehnerpotenz.
- (b) Löse folgende Ungleichung: $-5x \leq 5^{-1}x - 1$
- (c) Aus einem Quadrat mit Seitenlänge $a = 36$ werden wie in nebenstehender Figur n Kreise (ohne Überschneidung) mit Radius $r = 4$ herausgeschnitten. Für welche natürlichen Zahlen n ist die Fläche der so entstehenden Figur größer als 55 % der Quadratfläche?



2. Kreismessung

- (a) Berechne die Fläche eines Kreisrings mit innerem Radius $r = 7$ und äußerem Radius $R = 11$.
- (b) Gegeben ist der Umfang $u = 10,99$ eines Kreises. Berechne den Durchmesser und die Fläche dieses Kreises. Wie ändern sich die Ergebnisse, wenn man einen Kreis mit 11-fachem Umfang nimmt?
- (c) Die nebenstehende „Mondfinsternis“ entsteht, indem man von einem Kreis um $(0|0)$ mit Radius $r = 3$ den „rechts“ von $x = 2,6$ liegenden Kreisbogen nach „links“ spiegelt. Das entstehende „Tortenstück“ hat dann einen Winkel von ungefähr 60° , also $\overline{AB} \approx 3$. Berechne die Bogenlänge des Tortenstücks, die Fläche des umgeklappten („rechts“ von $x = 2,6$ liegenden) Segments und die Fläche der Mondfinsternis-Figur.



3. Ungleichungen

- (a) Aus der TIMS-Studie (diese war ähnlich wie PISA eine sehr bekannt gewordene internationale Vergleichsuntersuchung):

Bestimme die Lösungsmenge: $5x + \frac{5}{3} \leq -2x - \frac{2}{3}$

- (b) Welche Zahl muss auf der rechten Seite der Ungleichung

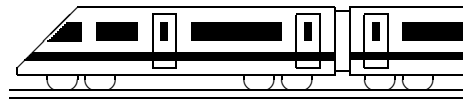
$$-x \leq \dots$$

stehen, damit die Lösungsmenge $L = [-5; \infty[$ ist?

- (c) Bestimme die Lösungsmenge: $-x > 0$

4. Potenzen mit negativen Exponenten

- (a) Erkläre, wie die Zahlenfolge $(\frac{5}{2})^3, (\frac{5}{2})^2, (\frac{5}{2})^1, \dots$ sinnvoll fortzusetzen ist.
- (b) Berechne: $(-5)^{-3} \cdot 5^{15} \cdot (2^3)^4$
- (c) Vereinfache: $\left(\frac{11x^{-3}}{4y^5}\right)^2 : \left(\frac{2}{y}\right)^{-3}$

**8. Klasse Übungen****08****Kompakt-Überblick zum Grundwissen****K**

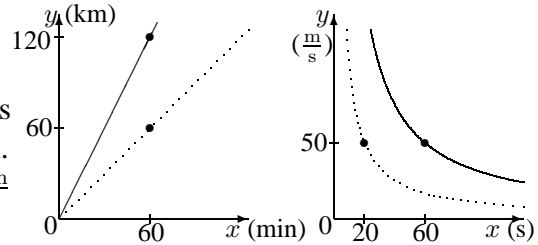
1. Proportionalität (siehe auch grund81.pdf):

Gegeben sind folgende Probleme:

A. Bei gegebener Strecke von 3 km ist aus der Zeit die Geschwindigkeit zu bestimmen.

B. Bei gegebener Geschwindigkeit $120 \frac{\text{km}}{\text{h}}$ ist aus der Zeit die Strecke zu bestimmen.

Welche Art Proportionalität liegt jeweils vor? Welches der nebenstehenden Diagramme gehört jeweils dazu? Wozu dient jeweils die punktierte Linie?



2. Funktionen verstehen (siehe auch grund82.pdf):

Beschreibe in Worten, wie die Gerade $y = -\frac{1}{4}x - 2$ im Vergleich zu $y = -\frac{1}{4}x$ im Koordinatensystem liegt. Für welches x ist jeweils $y = 2$? Wo liegen die Nullstellen?

3. Lineare Funktionen (siehe auch grund83.pdf):

Vergleiche folgende Möglichkeiten durch Zeichnen entsprechender Funktionsgraphen:

A. Entfernter Supermarkt mit 2 Euro Fahrkosten, 1 Sack Kartoffeln zu 1,25 Euro.

B. Benachbarter Supermarkt, 1 Sack Kartoffeln zu 2 Euro

4. Lineare Gleichungssysteme (siehe auch grund84.pdf):
- $$\begin{aligned} 2x + 5y &= 2 \\ 6x - 8y &= 29 \end{aligned}$$

5. Wahrscheinlichkeiten, Laplace-Experimente (siehe auch grund85.pdf):

Berechne die W., bei dreimaligem Würfeln drei verschiedene Augenzahlen zu werfen.

6. Bruchterme (siehe auch grund86.pdf): Vereinfache:
- $$\frac{1}{2x+14} - \frac{1}{x} \cdot \frac{x-x^2}{x+7}$$

7. Gebrochen-rationale Funktionen (siehe auch grund87.pdf):

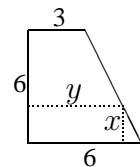
Zeichne die Graphen zu den Funktionstermen $f_1(x) = \frac{x}{x-4}$ und $f_2(x) = \frac{4}{x-4} + 1$. Wo liegen Polstellen/Nullstellen? Wie verhält sich der Graph bei sehr großen x -Werten?

8. Bruchgleichungen, Auflösen von Formeln (siehe auch grund88.pdf):

(a)
$$\frac{2}{x} - \frac{x}{x+3} = -1$$

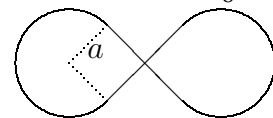
(b) Löse nach z auf:
$$\frac{1}{z} - \frac{1}{y} = \frac{1}{a}$$

9. Strahlensatz, Ähnlichkeit, Streckung (siehe auch grund89.pdf):

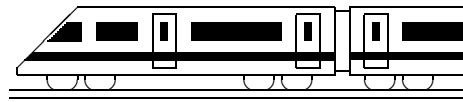
Einem Trapez wird ein Rechteck einbeschrieben. Welcher Zusammenhang besteht zwischen x und y ? Für welches x ergibt sich ein Quadrat?

10. Kreis, Ungleichung, Potenz (siehe auch grund810.pdf):

(a) Eine Parkeisenbahn fährt auf einer Schienen-Acht:

Auf einem Satelliten-Foto ist $a = 2 \cdot 10^{-4}$ m, in Wirklichkeit sind alle Maße 10^5 -mal so groß. Berechne die von der Acht eingeschlossene Fläche für das Foto und in Wirklichkeit. Wie lange benötigt der Zug bei 3 ms^{-1} für die Strecke?

(b) Löse rechnerisch, für welche Menge Kartoffeln A in Aufgabe 3 billiger ist.

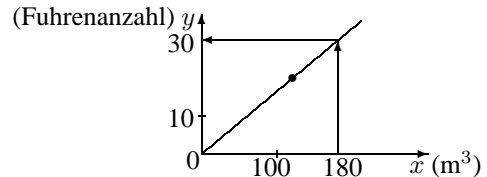


8. Klasse Lösungen	8
Proportionalität	01

1. (a) Man überlegt, wie viele Fuhren für 1 m^3 notwendig wären:

$$\begin{aligned}
 120 \text{ m}^3 &\mapsto 20 \text{ Fuhren} \\
 1 \text{ m}^3 &\mapsto \frac{20}{120} \text{ Fuhren} \\
 180 \text{ m}^3 &\mapsto \frac{20}{120} \cdot 180 \text{ Fuhren} = \\
 &= 30 \text{ Fuhren}
 \end{aligned}$$

(b) Durch den Nullpunkt und durch den Punkt $(120|20)$ zeichnet man eine Gerade. Dann kann man zum x -Wert 180 den gewünschten y -Wert ablesen.



2. Indirekte Proportionalität (bei doppelt so vielen Lkws braucht man halb so lange), vorausgesetzt die Lkws sind gleich und behindern sich nicht gegenseitig.

Lösung bequem z. B. mit Produktgleichheit: $3 \cdot 20 = 5 \cdot y$, also $y = \frac{3 \cdot 20}{5}$, also 12 h; oder mit Schlussrechnung (Dreisatz): 1 Lkw $\mapsto 20 \cdot 3 \text{ h}$, 5 Lkws $\mapsto 60 : 5 \text{ h}$.

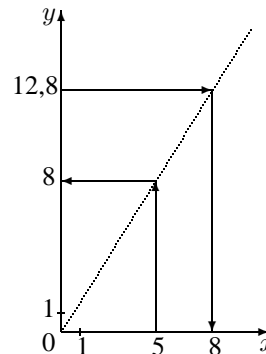
Hier zwar möglich, aber umständlicher: Bei $\frac{5}{3}$ -mal so viele Lkws benötigt man die $\frac{3}{5}$ -fache Zeit; oder durch Aufstellen der Gleichung $y = \frac{60}{x}$ oder (ungenau) durch Zeichnen dieser Hyperbel.

3. Schülerzahl x	2	4	6	8	10
Euro-Betrag y	3,2	6,4	9,6	12,8	16

Gleichung: $y = 1,6x$

In einer Schülergruppe von 5 Schülern müssen 8 Euro eingesammelt werden (klar: für $\frac{1}{10}$ der Schüler nur $\frac{1}{10}$ Materialkosten).

Eine Schülergruppe, die 12,80 Euro bezahlt, besteht aus 8 Schülern.



4. Abgelesen werden z. B. $(1|2,4)$, $(2|1,2)$, $(5|0,5)$.

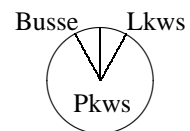
Bei indirekter Proportionalität hat man Produktgleichheit.

Berechne also die Produkte: $1 \cdot 2,4 = 2,4$; $2 \cdot 1,2 = 2,4$; $5 \cdot 0,5 = 2,5$.

Innerhalb der Messgenauigkeit sind die Produkte gleich, es handelt sich somit um eine indirekte Proportionalität mit der Gleichung $y = \frac{2,4}{x}$.

5. In allen drei Fällen handelt es sich um eine direkte Proportionalität.

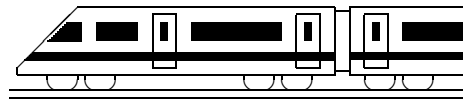
$$\begin{aligned}
 84 \% &\mapsto 21 \text{ Fahrzeuge} \\
 1 \% &\mapsto \frac{21}{84} \text{ Fahrzeuge} \\
 100 \% &\mapsto \frac{21 \cdot 100}{84} = 25 \text{ Fahrzeuge (oder direkt } 21 : 0,84 = 25)
 \end{aligned}$$



Es sind also $25 - 21 - 2 = 2$ Lkws, 2 Busse (je 8 %, denn 1 Fahrzeug $\hat{=} 4$ %).

Im Kreisdiagramm ergeben 100 % den Vollkreis 360° ; die 8 % Busse erhalten also $360^\circ \cdot \frac{8}{100} = 28,8^\circ$, die Lkws ebenso und die Pkws den Rest.

6. Da die Masse gleich ist, handelt es sich um gleiche Produkte $\rho \cdot V$, also um eine indirekte Proportionalität. Daher ist im Vergleich zu Platin bei Silber (halbe Dichte) das Volumen doppelt, bei Keramik ($\frac{1}{10}$ Dichte) das Volumen 10-fach.

**8. Klasse Lösungen****8****Funktionen verstehen****02**

1. (a) Der y -Wert ist jeweils um 3 größer. Der Graph ist um 3 Einheiten nach oben verschoben.

Da sich z. B. für den x -Wert -4 der gleiche Funktionswert $y = (-4)^2 + 3 = 4^2 + 3$ ergibt wie beim x -Wert $+4$, allgemein bei $-x$ der gleiche y -Wert wie bei $+x$, sind die Funktionsgraphen achsensymmetrisch zur y -Achse.

- (b) Die y -Werte sind jeweils 3-mal so groß. Der Graph ist in y -Richtung 3-fach gestreckt, also steiler.

2. Die Terme stellen den Wert des jeweiligen Rades nach x Jahren dar. Der x -Wert des Schnittpunktes gibt also an, nach wie vielen Jahren beide Räder gleichen Wert haben; der y -Wert ist dann dieser Wert (in Euro).

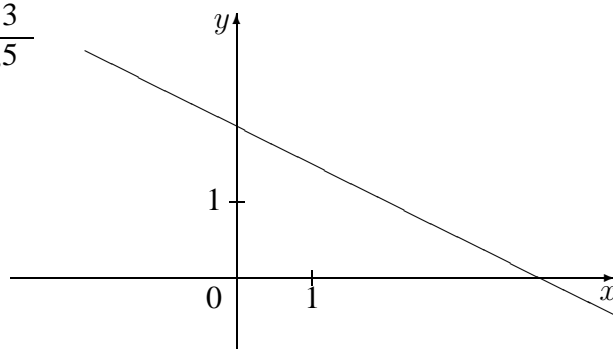
Gleichsetzen $-200x + 1800 = -70x + 800$ liefert $130x = 1000$; $x = \frac{100}{13} \approx 7,7$.

Einsetzen in $y = -200x + 1800$: $y = -200 \cdot \frac{100}{13} + 1800 = 261 \frac{7}{13}$

Einsetzen in $y = -70x + 800$: $y = -70 \cdot \frac{100}{13} + 800 = 261 \frac{7}{13}$.

3.

x	-3	-2	-1	0	1	2	3
y	3,5	3	2,5	2	1,5	1	0,5



Schnittpunkt mit y -Achse:

Einsetzen von $x = 0$ liefert $y = 2$.

Schnittpunkt mit x -Achse (Nullstelle):

Funktionsterm gleich 0 setzen: $-0,5x + 2 = 0$; $-0,5x = -2$; $x = 4$.

Punkte auf dem Graphen:

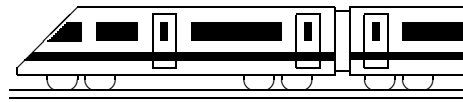
P : Einsetzen von $x = 2$ liefert $y = -0,5 \cdot 2 + 2 = 1$, also $P(2|1)$

Q : Einsetzen von $y = 5$ liefert $5 = -0,5 \cdot x + 2$; $x = -6$, also $Q(-6|5)$

R' : Einsetzen von $x = 100$ liefert $y = -0,5 \cdot 100 + 2 = -48$.

Für einen Punkt R unterhalb des Graphen, also unterhalb von R' muss also ein y -Wert kleiner als -48 gewählt werden, z. B. $R(100| - 50)$.

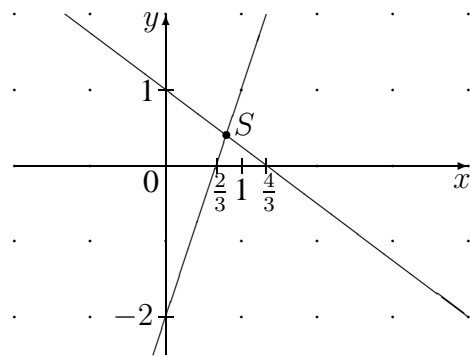
4. Berechne durch Gleichsetzen von zwei Funktionstermen $f_1(x)$ und $f_2(x)$ den Schnittpunkt dieser beiden Graphen und prüfe durch Einsetzen des sich ergebenden x -Wertes in den dritten Funktionsterm, ob sich der gleiche y -Wert ergibt wie bei den ersten beiden Funktionstermen.
5. Die Wertetabelle der zweiten Funktion weist y -Werte mit genau anderem Vorzeichen auf. Der Funktionsgraph ist an der x -Achse gespiegelt.
6. Einsetzen der Punktkoordinaten $x = -3$ und $y = -4$ in die Funktionsgleichung $y = x^2 - 2x + a$ liefert $-4 = (-3)^2 - 2 \cdot (-3) + a$, also $-4 = 9 + 6 + a$ und somit $a = -19$.



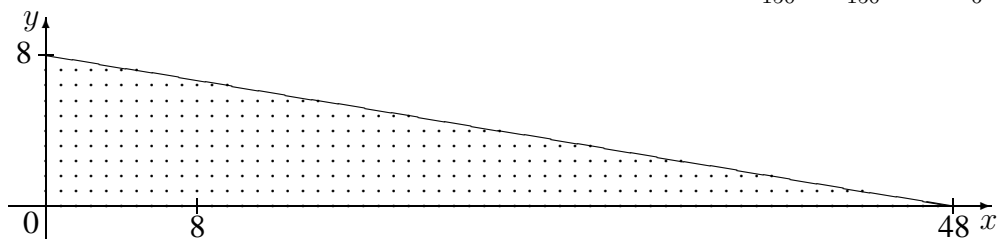
8. Klasse Lösungen	8
Lineare Funktionen	03

1. (a) Wegen des y -Achsenabschnitts -1 kommen nur I und II in Frage, wegen der Steigung $\frac{5}{4}$ (4 nach rechts, 5 nach oben) ist es II.
 (b) III hat die Gleichung $y = x + 1,25$
2. (a) Da P auf der y -Achse liegt, sieht man den y -Achsenabschnitt $t = 3$.
 Von P nach Q : 2 nach rechts, 6 nach unten, also Steigung $m = \frac{-6}{2} = -3$.
 Somit $y = -3x + 3$
 (b) Von P nach Q : 2 nach rechts, 4 nach unten, also Steigung $m = \frac{-4}{2} = -2$, also Ansatz $y = -2x + t$.
 Einsetzen von $P(1; 3)$: $3 = -2 \cdot 1 + t$; also $t = 5$. Somit $y = -2x + 5$
3. Nach Spiegelung an der x -Achse lautet die Gleichung $y = 7x$ (dann steigende Gerade), nach anschließender Verschiebung nach unten $y = 7x - 3$ (zu $y = 7x$ parallele Gerade).
4. (a) Parallele zur x -Achse (1 Einheit unter der x -Achse).
 (b) $y = -x - 2$ bedeutet: Fallende Gerade mit Steigung -1 , also „1 nach rechts, 1 nach unten“ (45° abwärts geneigt) und y -Achsenabschnitt -2 , also ist die Winkelhalbierende des II./IV. Quadranten um 2 Einheiten nach unten verschoben.

5. $y = 3x - 2$:
 Nullstelle: $0 = 3x - 2$; $3x = 2$; $x = \frac{2}{3}$
 $y = -\frac{3}{4}x + 1$:
 Nullstelle: $0 = -\frac{3}{4}x + 1$; $\frac{3}{4}x = 1$; $x = \frac{4}{3}$
 Schnittpunkt:
 $3x - 2 = -\frac{3}{4}x + 1$;
 $3x + \frac{3}{4}x = 1 + 2$; $\frac{15}{4}x = 3$;
 $x = 3 \cdot \frac{4}{15} = \frac{4}{5} = 0,8$.
 Eingesetzt in eine der Gleichungen:
 $y = 3 \cdot 0,8 - 2 = 0,4$.
 Also Schnittpunkt $S(0,8; 0,4)$

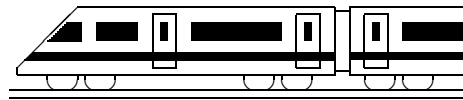


6. In kg: $25x + 150y = 1200$, also $150y = 1200 - 25x$; $y = \frac{1200}{150} - \frac{25}{150}x = -\frac{1}{6}x + 8$



Auf der eingezeichneten Geraden (genauer gesagt: Strecke) liegen die Werte $(x; y)$ mit genau 1200 kg Beladung.

Ist $25x + 150y \leq 1200$ („maximal 1,2 t“), so geben die Punkte auf oder unterhalb der Geraden die möglichen Beladungen wieder (Strecke und punktierter Bereich).



8. Klasse Lösungen	8
Lineare Gleichungssysteme	04

1. (a)
$$\begin{array}{rcl} 6x + 5y = -36 & | \cdot 3 & \\ -7x + 3y = -11 & | \cdot (-5) & \\ \hline 53x & = & -53 \\ x = -1 & & \\ \text{In I: } 6 \cdot (-1) + 5y = -36 & & \\ y = -6 & & L = \{(-1 | -6)\} \end{array}$$

(b)
$$\begin{array}{rcl} 2x - 6y = 1 & | & \\ x - y = 1 & | \cdot (-2) & \\ \hline -4y = -1 & & \\ y = 0,25 & & \\ \text{In II: } x - 0,25 = 1 & & \\ x = 1,25 & & L = \{(1,25 | 0,25)\} \end{array}$$

2. Es bietet sich hier das Einsetzverfahren an: II in I:

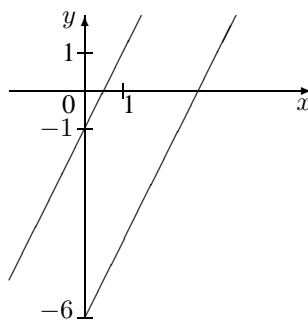
$$\begin{aligned} y &= 2 \cdot \left(\frac{1}{2}y + 3\right) - 1 \\ y &= y + 5 \\ 0 &= 5 \end{aligned}$$

Lösungsmenge: Leere Menge: $L = \{\}$.

Graphisch:

Auflösen der zweiten Gleichung nach y :

$$y = 2(x - 3) = 2x - 6.$$



Es ergeben sich parallele Geraden, also keine gemeinsamen Punkte.

3.
$$\begin{array}{rcl} 2x + y - 3z = 5 & | & \\ 3x - 2y + z = 6 & | \cdot 3 & | \cdot 2 \\ 4x + 3y - 2z = 16 & | & \\ \hline 11x - 5y & = & 23 \\ 10x - y & = & 28 \quad | \cdot (-5) \\ \hline -39x & = & -117 \\ x = 3 & & \\ 10 \cdot 3 - y = 28 & & \\ y = 2 & & \\ \text{In II: } 3 \cdot 3 - 2 \cdot 2 + z = 6 & & \\ z = 1 & & L = \{(3 | 2 | 1)\} \end{array}$$

4.
$$\begin{array}{rcl} 3 = m \cdot 2 + t & | \cdot (-1) & \\ 5 = m \cdot (-1) + t & | & \\ \hline 2 = -3m & & \\ m = -\frac{2}{3} & & \\ \text{In I: } 3 = -\frac{2}{3} \cdot 2 + t & & \\ t = \frac{13}{3} & & \end{array}$$

5. Sei n der Preis einer normalen und f der einer Farbkopie (in Euro).

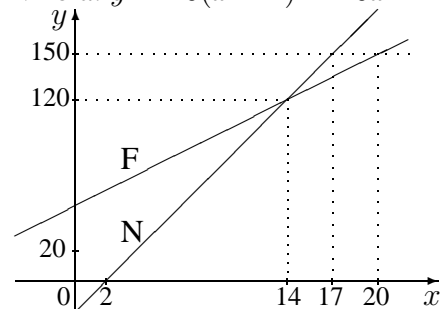
$$\begin{array}{rcl} 17n + 2f = 9,84 & | & \\ 39n + f = 8,58 & | \cdot (-2) & \\ \hline -61n & = & -7,32 \\ n = 0,12 & & \\ \text{In II: } 39 \cdot 0,12 + f = 8,58 & & \\ f = 3,90 & & \end{array}$$

Eine Farbkopie kostet 3,90 Euro.

6. Sei x die Zahl der Monate (ab Franzis Sparbeginn) und y der gesparte Betrag in Euro (= Preis des Geräts).

Franzi: $y = 50 + 5x$

Nikola: $y = 10(x - 2) = 10x - 20$

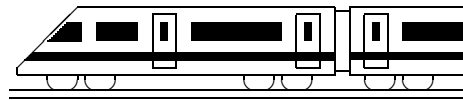


Schnittpunkt: $x = 14, y = 120$.

Nach 14 (bzw. Nikola nach 12) Monaten kann der DVD-Player zu 120 Euro gekauft werden.

Vor diesem Zeitpunkt ist F. „reicher“, danach N.

Der Grafik entnimmt man, dass ein Gerät zu 150 Euro von Franzis nach 20 Monaten gekauft werden kann und von Nikola bereits 17 Monate nach Franzis Sparbeginn.

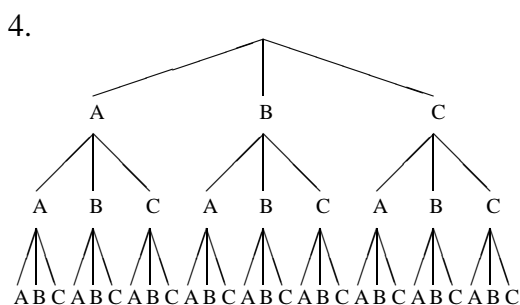


8. Klasse Lösungen	8
Wahrscheinlichkeiten, Laplace-Experimente	05

1. Die Stockwerke des Kaufhauses werden unterschiedlich attraktiv sein, so dass sich keine Gleichwahrscheinlichkeit ergibt. Zudem könnten bei Herrn A und Frau B „Abhängigkeiten“ bestehen, dass beide gemeinsam häufiger das gleiche Stockwerk wählen.

2. $\Omega = \{0, 1, 2, 3, 4\}$ ist ungünstig, da die Fächer nicht gleichwahrscheinlich sind. Besser mit den links/rechts (L/R)-„Entscheidungen“ der Kugeln, also als Laplace-Raum $\Omega = \{LLLL, LLLR, LLRL, \dots, RRRR\}$. Da jedes Mal 2 Wahlmöglichkeiten vorliegen, ist $|\Omega| = 2 \cdot 2 \cdot 2 \cdot 2 = 16$.
 $A = \text{„Kugel fällt in Fach 0“} = \{LLLL\}$,
 $P(A) = \frac{1}{16} = 0,0625 = 6,25\%$
 $B = \text{„... Fach 3“} = \{LRRR, RLRR, RRLR, RRRL\}$, $P(B) = \frac{4}{16} = \frac{1}{4} = 25\%$

3. $|\Omega| = 110$.
 $|A| = 8, P(A) = \frac{8}{110} \approx 0,073 = 7,3\%$
 $|B| = 52, P(B) = \frac{52}{110} \approx 0,473 = 47,3\%$
 $|C| = 6, P(C) = \frac{6}{110} \approx 0,055 = 5,5\%$
 $|D| = 24, P(D) = \frac{24}{110} \approx 0,218 = 21,8\%$ („< 5“, also 2, 3 oder 4)
 $|E| = 0, P(E) = 0$ (unmögliches Ereignis)
 $|F| = 4, P(F) = \frac{4}{110} \approx 0,036 = 3,6\%$ („es wird ein rotes As gezogen“)
 $|G| = 8 + 52 - 4 + 6, P(G) = \frac{62}{110} \approx 0,564 = 56,4\%$ („es wird eine rote Karte oder ein As oder ein Joker gezogen“)
 $|H| = 110 - 24, P(H) = 1 - P(D) = \frac{86}{110} \approx 0,782 = 78,2\%$ („es werden mindestens ≥ 5 Augen gezogen, d. h. mehr als 4“)



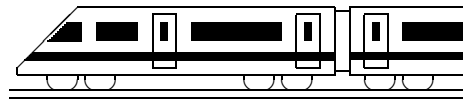
4. (Fortsetzung)
 E : Ein Gericht wird mindestens 2-mal gewünscht (also z. B. AAA, AAB). Zählt man im Baumdiagramm alle solchen Pfade durch, so erhält man 21 von 27 Möglichkeiten, also $P(E) = \frac{21}{27} = \frac{7}{9} \approx 77,8\%$.

5. (a) Nummeriert man die Mäntel wie die entsprechenden Personen in der Rückgabe-Schlange, so ist $\Omega = \{1234, 1243, 1324, 1342, 1423, 1432, 2134, 2143, 2314, 2341, 2413, 2431, 3124, 3142, 3214, 3241, 3412, 3421, 4123, 4132, 4213, 4231, 4312, 4321\}$ (z. B. 4132 bedeutet, dass die erste Person Mantel Nr. 4 erhält, die zweite Mantel Nr. 1, die dritte den eigenen Nr. 3, die vierte Nr. 2).
 $A = \{2143, 2341, 2413, 3142, 3412, 3421, 4123, 4312, 4321\}$,
 $P(A) = \frac{9}{24} = \frac{3}{8} = 0,375 = 37,5\%$
 (b) Im Modell aus Teilaufgabe (a) mit Reihenfolge ist $B = \{1234, 1243, 2134, 2143\}$, also $P(B) = \frac{4}{24} = \frac{1}{6}$

Notiert man ohne Reihenfolge die im „2-er-Pack“ zuerst ausgegebenen Mäntel, so ist $\Omega = \{12, 13, 14, 23, 24, 34\}$ und $B = \{12\}$, also wieder $P(B) = \frac{1}{6}$.

6. Alle Möglichkeiten: Der erste Schüler kann 10 Buch-Wünsche äußern, der zweite ebenso usw., also $|\Omega| = 10^4$.
 Günstige Möglichkeiten: Wenn jeder Schüler ein anderes Buch wünscht, kann der erste Schüler 10 Wünsche äußern, der zweite nur noch 9, der dritte 8 usw. Also:

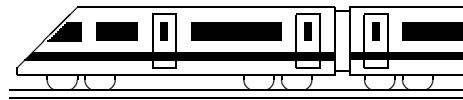
$P(E) = \frac{10 \cdot 9 \cdot 8 \cdot 7}{10^4} = 0,504 = 50,4\%$
 Eine relative Häufigkeit von $\frac{2}{10}$ im realen Experiment widerlegt noch nicht die Laplace-Annahme, da sich zufällig ein solcher Versuchsausgang einstellen kann.
 Nur bei sehr vielen Versuchen könnte man nach dem Gesetz der großen Zahlen eine solche Vermutung äußern, aber ein Beweis wäre es immer noch nicht.

**8. Klasse Lösungen****8****Rechnen mit Bruchtermen****06**

1. (a) Nebenrechnung: $36x^2 - 16x = 0;$
 $4x(9x - 4) = 0;$
 $x = 0$ oder $9x - 4 = 0;$
 $x = 0$ oder $9x = 4;$
 $x = 0$ oder $x = \frac{4}{9}.$
- (b) Verboten sind:
 $x - 6 = 0$ und $6x + 1 = 0,$
 also verboten:
 $x = 6$ und $6x = -1.$
 Somit $D = \mathbb{Q} \setminus \{-\frac{1}{6}; 6\}$

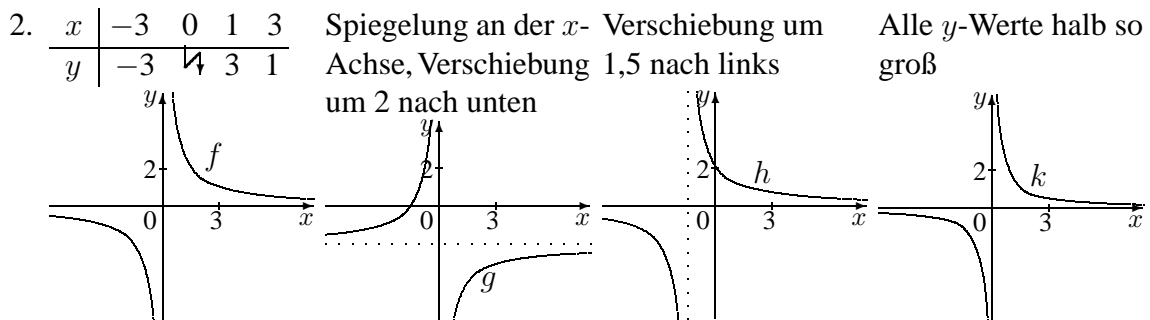
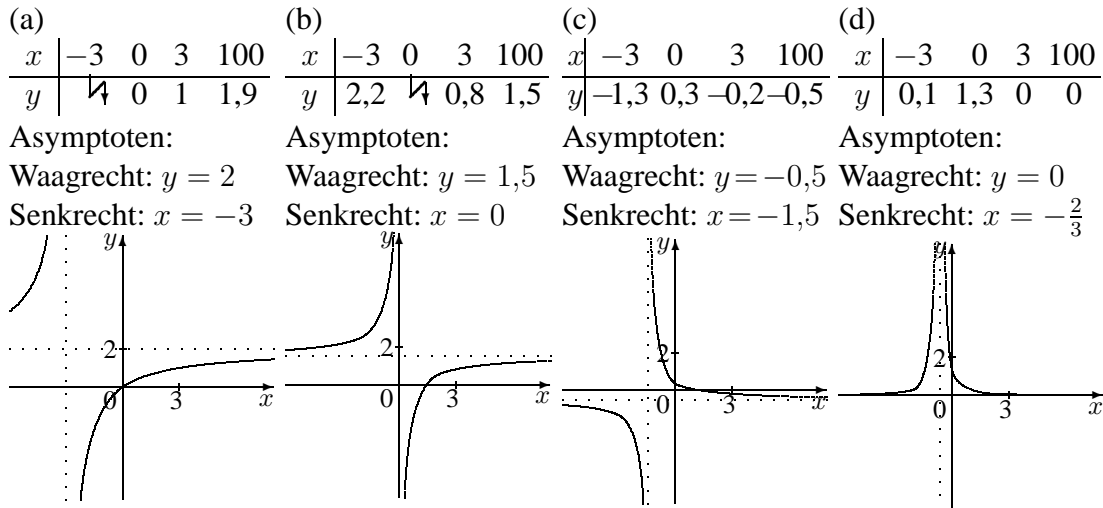
Damit ist $D = \mathbb{Q} \setminus \{0; \frac{4}{9}\}$

2. (a) $\frac{45x - 20}{36x^2 - 16x} = \frac{5(9x - 4)}{4x(9x - 4)} = \frac{5}{4x}$
- (b) $\frac{(ab)^2}{a^3b - a^2b^3} = \frac{a^2b^2}{a^2b(a - b^2)} = \frac{b}{a - b^2}$
3. $\frac{1}{R_1} + \frac{1}{R_2} + \frac{1}{R_1+R_2} = \frac{R_2(R_1+R_2)+R_1(R_1+R_2)+R_1R_2}{R_1R_2(R_1+R_2)} = \frac{3R_1R_2+R_2^2+R_1^2}{R_1R_2(R_1+R_2)}$
4. (a) $\frac{1}{x-1} - \frac{1}{x+2} = \frac{x+2}{(x-1)(x+2)} - \frac{x-1}{(x-1)(x+2)} = \frac{x+2-(x-1)}{(x-1)(x+2)} = \frac{3}{(x-1)(x+2)}$
- (b) $\frac{24-x}{x+3} - 8 = \frac{24-x}{x+3} - \frac{8(x+3)}{x+3} = \frac{24-x-8(x+3)}{x+3} = \frac{24-x-8x-24}{x+3} = \frac{-9x}{x+3} = -\frac{9x}{x+3}$
- (c) Zuerst faktorisieren, dann (-1) -Trick, dann auf gleichen Nenner bringen:
 $\frac{6x^2+5}{36x^2-16x} + \frac{3x}{8-18x} = \frac{6x^2+5}{4x(9x-4)} + \frac{3x}{2(4-9x)} = \frac{6x^2+5}{4x(9x-4)} - \frac{3x}{2(9x-4)} =$
 $= \frac{6x^2+5}{4x(9x-4)} - \frac{3x \cdot 2x}{4x(9x-4)} = \frac{6x^2+5-6x^2}{4x(9x-4)} = \frac{5}{4x(9x-4)}$
- (d) $\frac{6x+11}{2x+4} - \frac{2x+5}{x^2+2x} - 3 = \frac{6x+11}{2(x+2)} - \frac{2x+5}{x(x+2)} - 3 = \frac{(6x+11)x}{2x(x+2)} - \frac{(2x+5) \cdot 2}{2x(x+2)} - \frac{3 \cdot 2x(x+2)}{2x(x+2)} =$
 $= \frac{6x^2+11x-(4x+10)-(6x^2+12x)}{2x(x+2)} = \frac{6x^2+11x-4x-10-6x^2-12x}{2x(x+2)} = \frac{-5x-10}{2x(x+2)} =$
 $= \frac{-5(x+2)}{2x(x+2)} = \frac{-5}{2x} = -\frac{5}{2x}$
5. (a) $\frac{74x - 34}{x + 1} \cdot \frac{x^2 + 1}{74x + 34} =$
 $= \frac{(74x - 34)(x^2 + 1)}{(x + 1)(74x + 34)} = \frac{2(37x - 17)(x^2 + 1)}{(x + 1)2(37x + 17)} = \frac{(37x - 17)(x^2 + 1)}{(x + 1)(37x + 17)}$
 Eine weitere Vereinfachung ist nicht möglich, da $x^2 + 1$ nicht faktorisiert werden kann und nicht weiter gekürzt werden kann.
- (b) $\frac{az}{z - a} : \frac{a^2z^3}{az - a^2} = \frac{az}{z - a} \cdot \frac{az - a^2}{a^2z^3} = \frac{az \cdot a(z - a)}{(z - a) \cdot a^2z^3} = \frac{1}{z^2}$
6. (a) $\frac{\frac{J}{C}}{J} = \frac{J}{C} : J = \frac{J}{C \cdot J} = \frac{1}{C}$
- (b) $\frac{J}{\frac{J}{C}} = J : \frac{J}{C} = J \cdot \frac{C}{J} = \frac{J \cdot C}{J} = \frac{C}{1} = C$
- (c) $\frac{\frac{1}{x^2} - 2}{1 - \frac{1}{x}} = \frac{\frac{1}{x^2} - \frac{2x^2}{x^2}}{\frac{x}{x} - \frac{1}{x}} = \frac{\frac{1-2x^2}{x^2}}{\frac{x-1}{x}} =$
 $= \frac{1 - 2x^2}{x^2} : \frac{x-1}{x} = \frac{1 - 2x^2}{x^2} \cdot \frac{x}{x-1} = \frac{(1 - 2x^2)x}{x^2(x-1)} = \frac{1 - 2x^2}{x(x-1)}$



8. Klasse Lösungen	8
Gebrochen-rationale Funktionen	07

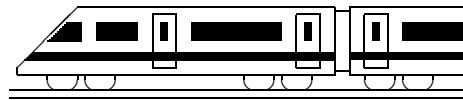
1. Aus Platzgründen sind die Wertetabellen hier stark verkürzt und gerundet:



3. (a) $D = \mathbb{Q} \setminus \{0; 5\}$ (Das Produkt im Nenner ist 0, wenn einer der Faktoren 0 ist)
- (b) $D = \mathbb{Q} \setminus \{\frac{5}{8}\}$ (Nebenrechnung: $8x - 5 = 0; 8x = 5; x = \frac{5}{8}$)
- (c) $D = \mathbb{Q} \setminus \{1\}$ (Nebenrechnung: $(x - 1)^2 = 0; x - 1 = 0; x = 1$)

4. (a) $x = 0: y = \frac{4 \cdot 10^8}{6370^2} = 9,86$ (vgl. Physik: Ortsfaktor)
 $x \rightarrow \infty: y = 0$ (Weit draußen im Weltraum verschwindet die Anziehungskraft)
- (b) $x = -0,8 = -80\%$ bedeutet eine Kapitalverminderung um 80 %, also auf $20\% = \frac{1}{5}$ des Anfangswertes; umgekehrt war also der Anfangswert 5-mal so groß: $f(-0,8) = \frac{15000}{1-0,8} = 75000$.
 Definitionslücke $x = -1$: Bei Kapitalverminderung um 100 % bliebe nichts mehr übrig (der Fall eines Endkapitals von 75000 kann also nicht sein).
 Waagrechte Asymptote für große x (= starke Kapitalvermehrung, z. B. um 100 = 10000 %) ist $y = 0$; das würde bedeuten, dass aus einem Anfangskapital von fast 0 das Endkapital entsteht.

5. Die Begründung ist z. B. möglich mit jeweils einer kleinen Wertetabelle und Vergleich mit den Zeichnungen. Oder anhand des Definitionsbereichs (Nenner betrachten!):
 $f(x)$: C, weil Nenner $4x^2 + 2$ stets positiv, also keine Definitionslücke.
 $g(x)$: A, weil $D = \mathbb{Q} \setminus \{-2; 2\}$: Zwei Definitionslücken $x = -2$ und $x = 2$.
 $h(x)$: B, weil $D = \mathbb{Q} \setminus \{-2\}$: Einzige Definitionslücke $x = -2$.



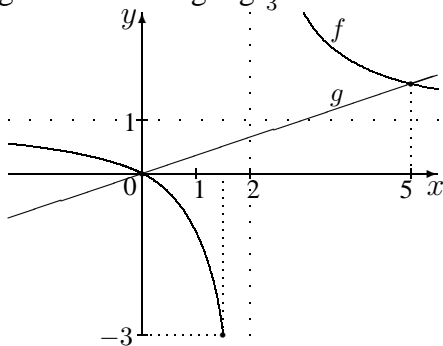
8. Klasse Lösungen	8
Bruchgleichungen, Formeln auflösen	08

1. (a) $D = \mathbb{Q} \setminus \{-3\}$. Kreuzweise Mult.: $2 \cdot 10 = 5x + 15$; $x = 1$; $L = \{1\}$
- (b) $D = \mathbb{Q} \setminus \{1; 3\}$. Kreuzweises Multiplizieren liefert:
 $2(x - 1) = 3(x - 3)$; $2x - 2 = 3x - 9$; $x = 7$; $L = \{7\}$
- (c) $D = \mathbb{Q} \setminus \{1\}$. Multiplikation mit dem Hauptnenner $x - 1$ liefert:
 $3x^2 - 3x(x - 1) = 1 + 2(x - 1)$
 $3x^2 - 3x^2 + 3x = 1 + 2x - 2$ $x = -1$ $L = \{-1\}$
- (d) $D = \mathbb{Q} \setminus \{1\}$. Multiplikation mit dem Hauptnenner $x - 1$ liefert:
 $3x^2 - 3x(x - 1) = 3 + 2(x - 1)$
 $3x^2 - 3x^2 + 3x = 3 + 2x - 2$ $x = 1$ $L = \{\}$
 (Beachte hier, dass $x = 1$ nicht in der Definitionsmenge ist!)
- (e) Nenner faktorisieren: $2x + 6 = 2(x + 3)$, $x^2 + 3x = x(x + 3)$.
 Also $D = \mathbb{Q} \setminus \{-3; 0\}$. Multiplikation mit dem Hauptnenner $4x(x + 3)$ liefert:
 $5 \cdot 2x - (1 - 0,25x^2) \cdot 4 = x(x + 3)$
 $10x - 4 + x^2 = x^2 + 3x$; $7x = 4$ $x = \frac{4}{7}$ $L = \{\frac{4}{7}\}$

2. Wertetabelle (gerundete Werte) für f :

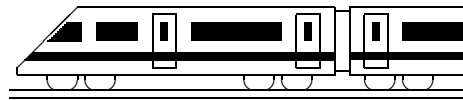
x	-2	-1	0	1	2	3	100
$f(x)$	0,5	0,33	0	-1	4	3	1,02

Der Graph zu g ist eine Ursprungsgerade mit Steigung $\frac{1}{3}$.



Nullstelle: $f(x) = 0$ Schnittpkte: $f(x)=g(x)$
 $\frac{x}{x-2} = 0$ $| \cdot (x - 2)$ $\frac{x}{x-2} = \frac{1}{3}x$ $| \cdot 3(x - 2)$
 $x = 0 \cdot (x - 2)$ $3x = x(x - 2)$
 $x = 0$ $3x = x^2 - 2x$
 $x^2 - 5x = 0$
 $x(x - 5) = 0$
 $x = 0$ oder $x - 5 = 0$
 $x_1 = 0, x_2 = 5$
 y -Werte durch Einsetzen in $f(x)$ oder $g(x)$:
 $S_1(0|0), S_2(5|\frac{5}{3})$

3. (a) (1) $c_1 m_1 \vartheta_1 - c_1 m_1 \vartheta_m = c_2 m_2 \vartheta_m - c_2 m_2 \vartheta_2$ $| + c_1 m_1 \vartheta_m + c_2 m_2 \vartheta_2$
 (2) $c_1 m_1 \vartheta_1 + c_2 m_2 \vartheta_2 = c_2 m_2 \vartheta_m + c_1 m_1 \vartheta_m$
 (3) $c_1 m_1 \vartheta_1 + c_2 m_2 \vartheta_2 = (c_2 m_2 + c_1 m_1) \vartheta_m$ $| : (c_2 m_2 + c_1 m_1)$
 (4) $\frac{c_1 m_1 \vartheta_1 + c_2 m_2 \vartheta_2}{c_2 m_2 + c_1 m_1} = \vartheta_m$
 - (b) $\frac{B}{G} = \frac{b}{g}$; $Bg = bG$; $g = \frac{bG}{B}$
 - (c) $\frac{1}{f} = \frac{1}{g} + \frac{1}{b}$ $| \cdot fgb$
 $gb = fb + fg$; $gb - fg = fb$; $g(b - f) = fb$; $g = \frac{fb}{b-f}$
 - (d) Wie in (c): $gb = fb + fg$; $gb = f(b + g)$; $f = \frac{gb}{b+g}$
 - (e) $\rho_a V g = mg + \rho_i V g$; $\rho_a V - \rho_i V = m$; $(\rho_a - \rho_i) V = m$; $V = \frac{m}{\rho_a - \rho_i}$
4. $\frac{a}{a-x} = 3$; $a = 3(a-x)$; $a = 3a - 3x$; $a - 3a = -3x$; $-2a = -3x$; $a = \frac{3x}{2}$
 Probe: $\frac{\frac{3x}{2}}{\frac{3x}{2} - x} = \frac{\frac{3x}{2}}{\frac{x}{2}} = \frac{3x \cdot 2}{2 \cdot x} = 3$



8. Klasse Lösungen	8
Strahlensatz, Ähnlichkeit, Streckung	09

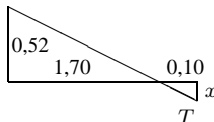
1. (a) $\triangle ADT \sim \triangle ACB$, also $\frac{\overline{AD}}{\overline{TD}} = \frac{\overline{AC}}{\overline{BC}}$
 $\frac{x}{6} = \frac{x+10}{10}; \quad 10x = 6x + 60$
 $x = 15$
 Ebenso $\frac{\overline{AB}}{\overline{BC}} = \frac{\overline{AT}}{\overline{TD}}$
 $\frac{15+y}{10} = \frac{15}{6}; \quad 6(15+y) = 15 \cdot 10$
 $90 + 6y = 150$
 $y = 10$
 Teilverhältnis $\frac{\overline{AT}}{\overline{TB}} = \frac{15}{10} = \frac{3}{2} = \frac{6}{10-6}$
- (b) $\triangle ATC \sim \triangle BTD$, also $\frac{\overline{AT}}{\overline{TC}} = \frac{\overline{BT}}{\overline{TD}}$
 $\frac{x}{6} = \frac{y}{10}; \quad 10x = 6y$
 Ferner $\overline{AB} = x + y = 15$,
 also $y = 15 - x$ eingesetzt:
 $10x = 6(15 - x); \quad 10x = 90 - 6x$
 $x = \frac{90}{16} = \frac{45}{8} = 5,625$
 $y = 15 - x = 15 - \frac{45}{8} = \frac{75}{8} = 9,375$
 Teilverhältnis $\frac{\overline{AT}}{\overline{TB}} = \frac{x}{y} = \frac{45}{75} = \frac{3}{5} = \frac{6}{10}$

2. Die Dreiecke sind ähnlich, da sie in den Winkeln übereinstimmen, denn:

$$\sphericalangle(r, t) = 90^\circ - \sphericalangle(t, F_G) = \sphericalangle(F_G, F_N), \quad \sphericalangle(s, r) = 90^\circ = \sphericalangle(F_N, F_H).$$

$$\frac{F_H}{F_G} = \frac{\text{kürzere Kathete}}{\text{Hypotenuse}} = \frac{s}{t}$$

3. Nach Einzeichnen einer Hilfslinie auf Höhe der Seitenwand folgt:



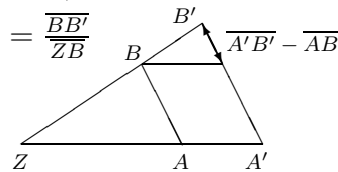
$$\frac{x}{0,10} = \frac{0,52}{1,70}, \text{ also } x = \frac{0,52 \cdot 0,10}{1,70} \approx 0,03.$$

Somit befindet sich T etwa $2,03 - 0,03 = 2,00$ m über dem Boden.

4. (a) $\frac{\overline{ZA}}{\overline{ZA'}} = \frac{\overline{ZB}}{\overline{ZB'}} = \frac{\overline{AB}}{\overline{A'B'}}$ (d. h. die Querstrecken verhalten sich wie die von Z aus gemessenen Stücke auf den Schenkeln)

$$(b) \frac{\overline{AA'}}{\overline{ZA}} = \frac{\overline{ZA'} - \overline{ZA}}{\overline{ZA}} = \frac{\overline{ZA'}}{\overline{ZA}} - 1 = \frac{\overline{ZB'}}{\overline{ZB}} - 1 = \frac{\overline{ZB'} - \overline{ZB}}{\overline{ZB}} = \frac{\overline{BB'}}{\overline{ZB}}$$

$$\frac{\overline{AA'}}{\overline{ZA}} = \frac{\overline{ZA'}}{\overline{ZA}} - 1 = \frac{\overline{A'B'}}{\overline{AB}} - 1 = \frac{\overline{A'B'} - \overline{AB}}{\overline{AB}}$$



(c) Betrachte V-Figur von E aus: $\frac{\overline{DF}}{\overline{EF}} = \frac{\overline{CG}}{\overline{EG}}$, also $\overline{DF} = \frac{\overline{CG} \cdot \overline{EF}}{\overline{EG}} = \frac{14 \cdot 6}{6+9} = 5,6$.

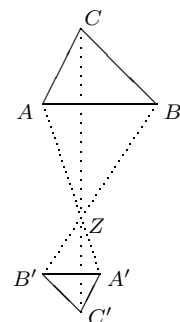
Betrachte X-Figur von D aus: $\frac{\overline{AD}}{\overline{DF}} = \frac{\overline{AB}}{\overline{EF}}$, also $\overline{AD} = \frac{\overline{AB} \cdot \overline{DF}}{\overline{EF}} = \frac{12 \cdot 5,6}{6} = 11,2$.

Tipp: Das Umstellen der Formel ist bequemer, wenn man beim Aufschreiben der Verhältnisse die gesuchte Streckenlänge in den Zähler schreibt.

5. (a) $m = \frac{\overline{A'B'}}{\overline{AB}} = \frac{\overline{A'C'}}{\overline{AC}} = \frac{\overline{B'C'}}{\overline{BC}} = \frac{\overline{ZA'}}{\overline{ZA}} = \frac{\overline{ZB'}}{\overline{ZB}} = \frac{\overline{ZC'}}{\overline{ZC}}$

(b) Für $m = -\frac{1}{2}$ siehe Bild rechts.

Für $m = -1$ erhält man eine Punktspiegelung an Z .



6. (a) $m = \frac{\overline{A'B'}}{\overline{AB}} = \frac{3}{5}$.

Für die Höhen gilt der gleiche Streckungsfaktor: $\frac{h'}{h} = \frac{3}{5}$. Ferner $h = h' + H$.

Auflösen der ersten Gleichung nach h' und Einsetzen in die zweite liefert

$$h = \frac{3}{5}h + H, \quad \frac{2}{5}h = H, \quad h = \frac{5}{2}H = 2,5.$$

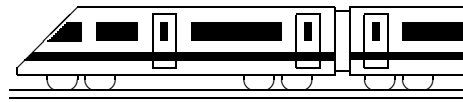
(b) $V = \frac{1}{3}Gh$, verkleinerte Pyramide: $V' = \frac{1}{3}G'h'$.

Da Flächen mit dem Faktor m^2 zu multiplizieren sind, folgt

$$V' = \frac{1}{3}m^2G \cdot mh = m^3 \cdot \frac{1}{3}Gh = m^3V$$

**8. Klasse Lösungen****8****Miszellaneen: Kreis, Ungleichung, Potenz****10**

1. (a) $A = r^2\pi = (25 \cdot 10^{-6} \text{ m})^2\pi \approx 1,96 \cdot 10^{-9} \text{ m}^2$
Anzahl auf $1 \text{ cm}^2 = 0,0001 \text{ m}^2$ somit $0,0001 : (1,96 \cdot 10^{-9}) = 5,09 \cdot 10^4$
- (b) $-5x \leq 5^{-1}x - 1$
 $-5x \leq \frac{1}{5}x - 1 \quad | -\frac{1}{5}x$
 $-5,2x \leq -1 \quad | : (-5,2)$
 $x \geq \frac{1}{5,2}; \quad L = [\frac{5}{26}; \infty[$
- (c) Fläche des „Käsestücks“: $a^2 - nr^2\pi = 36^2 - n \cdot 4^2\pi \approx 1296 - 50,27n$
55 % von der Fläche des Quadrats: $0,55 \cdot a^2 = 712,8$
 $1296 - 50,27n > 712,8 \quad | + 50,27n - 712,8$
 $583,2 > 50,27n \quad | : 50,27$
 $11,6 > n$, d. h. $n < 11,6$
Also gilt das Gewünschte für alle natürlichen Zahlen bis einschließlich 11.
2. (a) $A = R^2\pi - r^2\pi = 11^2\pi - 7^2\pi = 72\pi \approx 226,2$
- (b) Aus $u = 2r\pi$ folgt $r = \frac{u}{2\pi} \approx 1,75$, somit $d = 2r \approx 3,5$ und $A = r^2\pi \approx 9,61$
Wegen der Proportionalität von u und r ist bei 11-fachem Umfang der Radius ebenfalls 11-fach und die Fläche somit 121-fach.
- (c) Der 60° -Winkel schneidet aus dem 360° -Vollkreis $\frac{60}{360} = \frac{1}{6}$ heraus.
Bogenlänge: $\frac{1}{6} \cdot 2r\pi = \frac{1}{6} \cdot 2 \cdot 3\pi = \pi \approx 3,14$.
Segmentfläche: $\frac{1}{6}$ -Kreis minus Dreieck mit Grundlinie \overline{AB} und Höhe $h = 2,6$:
 $A_S = \frac{1}{6}r^2\pi - \frac{1}{2}\overline{AB} \cdot h = \frac{1}{6} \cdot 3^2\pi - \frac{1}{2} \cdot 3 \cdot 2,6 = 1,5\pi - 3,9 \approx 0,81$
Mondfinsternis-Figur: $A = r^2\pi - 2A_S = 9\pi - 2(1,5\pi - 3,9) = 6\pi + 7,8 \approx 26,6$
3. (a) $5x + \frac{5}{3} \leq -2x - \frac{2}{3} \quad | \cdot 3$
 $15x + 5 \leq -6x - 2$
 $21x \leq -7$
 $x \leq -\frac{1}{3}; \quad L =] - \infty; -\frac{1}{3}]$
- (b) $-x \leq 5$ liefert nach Umformung (Multiplikation mit -1) $x \geq -5$
- (c) $-x > 0 \quad | \cdot (-1) \quad (!)$
 $x < 0; \quad L =] - \infty; 0[$
4. (a) Die Zahlenfolge wird von Schritt zu Schritt jeweils durch $\frac{5}{2}$ dividiert:
 $(\frac{5}{2})^3 = \frac{125}{8}, (\frac{5}{2})^2 = \frac{25}{4}, (\frac{5}{2})^1 = \frac{5}{2}, (\frac{5}{2})^0 = 1, (\frac{5}{2})^{-1} = \frac{2}{5}, (\frac{5}{2})^{-2} = \frac{4}{25}, (\frac{5}{2})^{-3} = \frac{8}{125}$
- (b) $(-5)^{-3} \cdot 5^{15} \cdot (2^3)^4 = \frac{1}{(-5)^3} \cdot 5^{15} \cdot 2^{12} = -\frac{5^{15}}{5^3} \cdot 2^{12} = -5^{12} \cdot 2^{12} = -10^{12}$
(Minus 1 Billion)
- (c) $\left(\frac{11x^{-3}}{4y^5}\right)^2 : \left(\frac{2}{y}\right)^{-3} = \frac{11^2x^{-6}}{4^2y^{10}} : \frac{y^3}{2^3} = \frac{121}{16y^{10}x^6} \cdot \frac{8}{y^3} = \frac{121 \cdot 8}{16y^{13}x^6} = \frac{121}{2x^6y^{13}}$



8. Klasse Lösungen	08
Kompakt-Überblick zum Grundwissen	K

1.

A: Bei doppelter Zeit für die 3 km liegt halbe Geschw. vor, also indirekte Proportionalität; Hyperbel (rechts); Bedeutung des Produkts: $60 \text{ s} \cdot 50 \frac{\text{m}}{\text{s}} = 3000 \text{ m} = 3 \text{ km}$; punktiert: Gleiches Problem bei geg. Strecke 1 km.

B: Bei doppelter Zeit kann man bei geg. Geschwindigkeit die doppelte Strecke zurücklegen, also direkte Proportionalität; Ursprungsgerade (links); Bedeutung des Quotienten: $\frac{120 \text{ km}}{60 \text{ min}} = 120 \frac{\text{km}}{\text{h}}$; punktiert: Gleiches Problem bei geg. Geschwindigkeit $60 \frac{\text{km}}{\text{h}}$.

2.

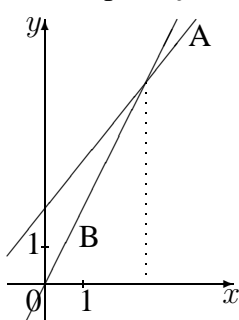
$y = -\frac{1}{4}x$ ist eine flach fallende Ursprungsgerade, $y = -\frac{1}{4}x - 2$ um 2 Einheiten tiefer.

2 als y -Wert: $2 = -\frac{1}{4}x$, also $x = -8$ bzw. $2 = -\frac{1}{4}x - 2$, also $x = -16$.

Nst: $x = 0$ bzw. $0 = -\frac{1}{4}x - 2$, also $x = -8$.

3.

Gesamtpreis y bei Kauf von x Säcken:



A: $y = 1,25x + 2 = \frac{5}{4}x + 2$

B: $y = 2x$ (in Euro)

Schnittpunkt:

$$2x = 1,25x + 2,$$

$$\text{also } x = \frac{8}{3} = 2\frac{2}{3}.$$

Bis zu 2 Säcken ist B günstiger, ab 3 Säcken A.

4.

$$I \quad 2x + 5y = 2 \quad | \cdot 8$$

$$II \quad 6x - 8y = 29 \quad | \cdot 5$$

$$\hline 46x \quad \quad = 161, \text{ also } x = 3,5$$

In I: $2 \cdot 3,5 + 5y = 2$, also $y = -1$.

$$L = \{(3,5 | -1)\}$$

5.

$$|\Omega| = 6 \cdot 6 \cdot 6 = 216, |A| = 6 \cdot 5 \cdot 4 = 120$$

$$P(A) = \frac{|A|}{|\Omega|} = \frac{120}{216} = \frac{5}{9}$$

6.

$$\frac{1}{2x+14} - \frac{1}{x} \cdot \frac{x(1-x)}{x+7} = \frac{1}{2(x+7)} - \frac{1-x}{x+7} =$$

$$= \frac{1}{2(x+7)} - \frac{2(1-x)}{2(x+7)} = \frac{1-2+2x}{2(x+7)} = \frac{2x-1}{2(x+7)}$$

7.

$$\begin{array}{c|cccccc} x & -2 & 0 & 2 & 4 & 6 & 100 \\ \hline y = \frac{x}{x-4} & \frac{1}{3} & 0 & -\frac{1}{2} & \text{!} & 3 & 1,04 \end{array}$$

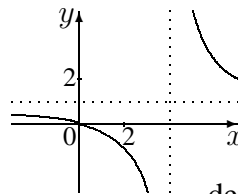
Pol: $x = 4$ (Nenner!)

Nullstelle: $x = 0$

Bei großen x -Werten: y -Werte nahe 1.

$$y = \frac{4}{x-4} + 1: \text{ Dasselbe,}$$

$$\text{denn } \dots = \frac{4}{x-4} + \frac{x-4}{x-4} = \frac{x}{x-4}$$



8.

(a) $D = \mathbb{Q} \setminus \{-3; 0\}$

$$\frac{2}{x} - \frac{x}{x+3} = -1 \quad | \cdot x(x+3)$$

$$2(x+3) - x^2 = -x(x+3)$$

$$2x + 6 - x^2 = -x^2 - 3x$$

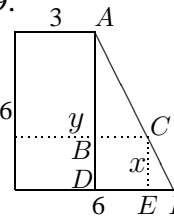
$$5x = -6; \quad x = -1,2; \quad L = \{-1,2\}$$

(b) $\frac{1}{z} - \frac{1}{y} = \frac{1}{a} \quad | \cdot zya$

$$ya - za = zy; \quad ya = zy + za$$

$$ya = z(y+a); \quad z = \frac{ya}{y+a}$$

9.



$$\triangle ADF \sim \triangle ABC$$

$$\frac{DF}{AD} = \frac{BC}{AB}$$

$$\frac{3}{6} = \frac{y-3}{6-x}$$

(oder $\triangle ADB \sim \triangle CEF$:

$$\frac{3}{6} = \frac{6-y}{x}$$

Quadrat: $x = y$, also $\frac{3}{6} = \frac{x-3}{6-x}$

Kreuzweise mult.: $3(6-x) = 6(x-3)$

$$18 - 3x = 6x - 18; \quad 36 = 9x; \quad x = 4$$

10.

(a) Zwei $\frac{3}{4}$ -Kreise und zwei Quadrate:

$$A = 2 \cdot \frac{3}{4}a^2\pi + 2a^2 = (\frac{3}{2}\pi + 2)a^2$$

$$A_{\text{Foto}} = (\frac{3}{2}\pi + 2)(2 \cdot 10^{-4} \text{ m})^2 = (\frac{3}{2}\pi + 2) \cdot 4 \cdot 10^{-8} \text{ m}^2 \approx 2,685 \cdot 10^{-7} \text{ m}^2$$

$$A_{\text{Wirkl}} = A_{\text{Foto}} \cdot (10^5)^2 \approx 2,685 \cdot 10^3 \text{ m}^2$$

$$\text{(oder mit } a_{\text{Wirkl}} = 2 \cdot 10^{-4} \text{ m} \cdot 10^5 = 2 \cdot 10 \text{ m} = 20 \text{ m)}$$

$$v = 3 \frac{\text{m}}{\text{s}}$$

$$s = 2\frac{3}{4} \cdot 2a\pi + 4a = (3\pi + 4) \cdot 20 \text{ m}$$

$$v = \frac{s}{t}, \text{ also } t = \frac{s}{v} = \frac{(3\pi+4) \cdot 20 \text{ m}}{3 \frac{\text{m}}{\text{s}}} \approx 89,5 \text{ s}$$

(b) $1,25x + 2 < 2x \quad | - 2x - 2$

$$-0,75x < -2 \quad | : (-\frac{3}{4})$$

$$x > (-2) : (-\frac{3}{4}) = 2 \cdot \frac{4}{3} = \frac{8}{3} = 2\frac{2}{3}$$